

1.

$$\begin{array}{r} 5 \text{ onluk} \quad 7 \text{ birlik} \\ - 2 \text{ onluk} \quad 6 \text{ birlik} \\ \hline \end{array}$$

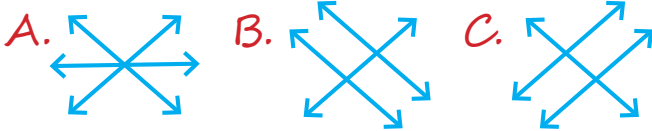
Yukarıdaki çıkarma işleminin sonucu hangi seçenekte verilmiştir?

- A. 3 onluk 7 birlik  
B. 3 onluk 1 birlik  
C. 3 onluk 6 birlik

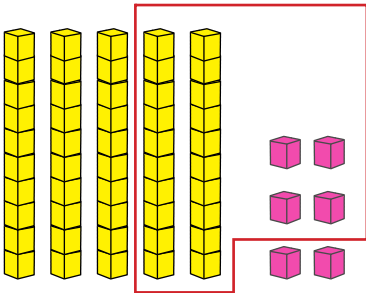
2.

fark	33
çıkan	$- 12$
eksilen	21

Yukarıdaki çıkarma işleminde terimler eşleştirildiğinde oluşan şekil aşağıdakilerden hangisidir?




3.



Yukarıdaki onluk taban bloklarıyla yapılan çıkarma işleminin sonucu kaçtır?

- A. 32 B. 24 C. 33

4.



35 tane yumurtasının yukarıdaki kadarını satan bir satıcının kaç tane yumurtası kalır?

- A. 19 B. 21 C. 29

sonerhoca.net

5.

$$\begin{array}{r} 76 \\ - 31 \\ \hline 45 \end{array}$$

$$\begin{array}{r} 67 \\ - 28 \\ \hline 39 \end{array}$$

$$\begin{array}{r} 54 \\ - 27 \\ \hline 26 \end{array}$$

Yukarıdaki çıkarma işlemlerinden hangisinin sonucu yanlıştır?

- A.  B.  C.

6.

Bir çıkarma işleminde eksilen 49, çıkan 16 ise fark kaçtır?

- A. 33 B. 28 C. 31

7.

$$46 - 15 = \triangle$$

$$74 - 24 = \bullet$$

Yukarıdaki çıkarma işlemlerine göre  
 $\bullet$  -  $\triangle$  işleminin sonucu kaçtır?

- A. 29  
 B. 19  
 C. 32

8.

8 onluk 6 birlik

Yukarıdaki onluk ve birlikleri verilen  
 sayıların 27 eksiği kaçtır?

- A. 49      B. 61      C. 59

9.



Yukarıdaki onluk taban bloklarıyla ya-  
 pılan çıkarma işleminin sonucu kaçtır?

- A. 25      B. 15      C. 30

10.



9 onluktan 43 çıkarılırsa  
 kaç kalır?

- A. 57      B. 51      C. 47

sonerhoca.net

11.

$$54 - 14$$

$$61 - 15$$

$$82 - 21$$



Yukarıdaki çıkarma işlemleri sonuçlarıyla  
 eleştirilirse hangisi dışarıda kalır?

- A.      B.      C.

45'in 3 deste  
 Eksiği kaçtır?

12. Bir bahçede 84 ağacın, 32 tanesi  
 elma ağacı kalanı ise kiraz ağacı oldu-  
 ğuna göre kaç kiraz ağacı vardır?

- A. 49      B. 52      C. 61