


1. Verilen görsellerden hangisi yarımı ifade eder?



2.

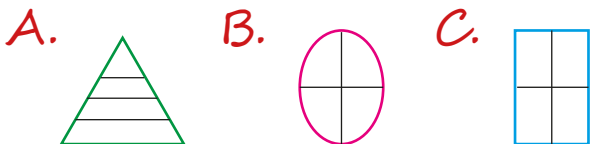


Ben iki yarımдан oluşuyorum.

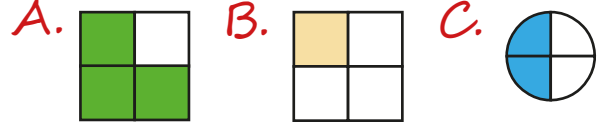
Yukarıda verilen bilgiye göre  sembolünün yerine aşağıdakilerden hangisi gelmelidir?



3. Aşağıdakilerden hangisi 4 eş parçaya bölünmemiştir?



4. Verilen şekillerden hangisinin yarısından azı boyanmıştır?




5.












Annem yukarıdaki elmaların yarısı ile elmalı turta yaptı. Annem elmalı turta için kaç elma kullanmıştır?

A. 2 B. 4 C. 3

6.



Yukarıdaki meyvelerin kesir ile ifade edilişi aşağıdakilerden hangisidir?

	<u>Çeyrek</u>	<u>Bütün</u>	<u>Yarım</u>
A.			
B.			
C.			

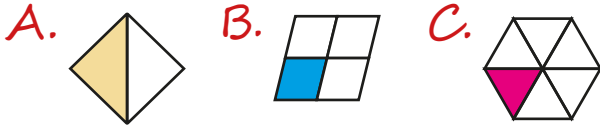
7.



Yukarıdaki yumurtaların yarısı kırıldığına göre kaç tane sağlam yumurta kalmıştır?

A. 5      B. 7      C. 8

8. Aşağıdaki şekillerden hangisi çeyreği ifade etmektedir?



9. Adem: 4 çeyrek elma yedim.

Ali: 3 yarım elma yedim.

Seda: 1 bütün elma yedim.

Yukarıdaki öğrencilerden hangisi diğerlerinden daha fazla elma yemiştir?

A. Adem      B. Ali      C. Seda

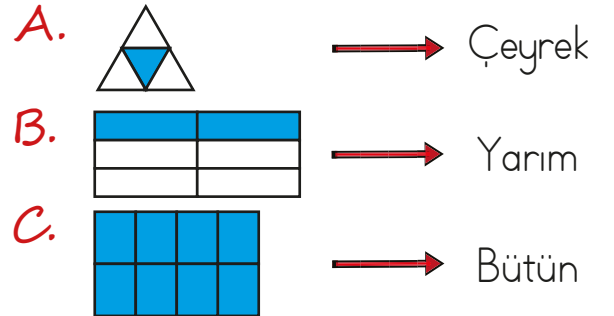
10.



Yukarıdaki 8 yarım limondan kaç bütün limon elde edebiliriz?

A. 8      B. 6      C. 4

11. Aşağıdaki eşleştirmelerden hangisi yanlıştır?



12. Sepetteki 18 limon, 2 fileye eşit olarak paylaşılıyor. Bir fileye, limonların ne kadarı konmuş olur?

A. Çeyreği      B. Yarısı  
C. Bütünü