

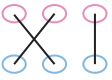
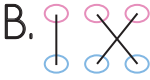
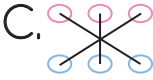
1. elli beş yirmi bir otuz altı

55

36

21

Yukarıdaki sayılarla okunuşları hangisinde doğru eşleştirilmiştir?

- A.  B.  C. 

2. Oya'nın 1 düzine kalemi vardı. 1 deste kalem de arkadaşı hediye etti. Oya'nın kaç kalemi oldu?

Yukarıdaki problemi doğru çözen Asel, hangi sonucu bulur?




- A. 20 B. 22 C. 24

3. Mehtap 1 deste çiçek topladı. İlayda 1 düzine, Ecem ise 8 çiçek topladı.

Buna göre üç arkadaş toplam kaç çiçek toplamıştır?

- A.  B.  C. 

4. Aşağıdaki sayılardan hangisi 40 ile 47 arasında değildir?

- A.  B.  C. 

5. ■ 2 düzine 20 tanedir.
● 2 deste 24 tanedir.
● 3 düzine 36 tanedir.

Hangi sembolle verilen ifade doğrudur?

- A. ■ B. ● C. ●

6.

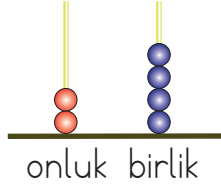
| | |
|---------|----------|
| ◆ onluk | 2 birlik |
| 40 | 2 |
| 42 | |

| | |
|---------|----------|
| 8 onluk | ● birlik |
| 80 | 7 |
| ● | |

Yukarıdaki tablolarda sembollerle gösterilen yerlere hangi sayılar gelmelidir?

- A. $\frac{\text{◆}}{\quad}$ 4 $\frac{\text{●}}{\quad}$ 7 $\frac{\text{●}}{\quad}$ 87
B. $\frac{\text{◆}}{\quad}$ 5 $\frac{\text{●}}{\quad}$ 4 $\frac{\text{●}}{\quad}$ 76
C. $\frac{\text{◆}}{\quad}$ 7 $\frac{\text{●}}{\quad}$ 5 $\frac{\text{●}}{\quad}$ 60

7. Abaküste gösterilen sayıyla ilgili hangisi yanlıştır?



- A. 4 birlik 2 onluktan oluşur.
B. 2 onluk 4 birlikten oluşur.
C. Oluşan sayı 20'dir.
8. Aşağıdaki verilenlerden hangisi doğrudur?
A. 5 onluk + 8 birlik = 85
B. 4 birlik + 6 onluk = 64
C. 1 onluk + 2 birlik = 21

9. Kalemlikteki 3 kaleme 1 düzine kalem daha eklersek kalemimiz olur.

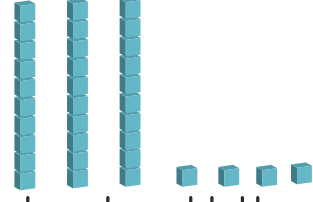
Yukarıdaki boşluğa gelmesi gereken sayı hangisidir?

- A. 13 B. 15 C. 18

10. Yanda verilen sayı ile ilgili aşağıdaki ifadelerden hangisi yanlıştır?

- A. 8 birlik, 4 onluktan oluşur.
B. Sayıya 2 eklersek 5 desteye eşit olur.
C. Onluk kısmında 4 birlik vardır.

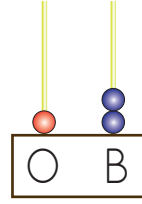
- 11.



Yukarıda taban bloklarıyla gösterilen sayı kaçtır?

- A. 34 B. 43 C. 44

- 12.



Şaban yandaki abaküsün onluklarına 4, birliklerine 2 boncuk taktı.

Şaban hangi sayıyı oluşturmuştur?

- A. 12 B. 36 C. 54

- 13.

| | | | |
|---|---|---|---|
| | 1 | 2 | 3 |
| A | 1 | 2 | 3 |
| B | 4 | 5 | 6 |
| C | 7 | 8 | 9 |

Yukarıdaki tabloya göre 3 birlik ve 4 onluktan oluşan sayının kodlaması aşağıdakilerden hangisidir?

- A. A2B4
B. C4A1
C. B1A3