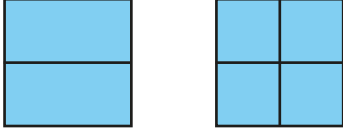


1.



Yukarıdaki şekiller ile ilgili olarak hangisi **söylenemez**?

- A. 2 yarım, 6 çeyrek vardır.  
 B. 2 yarım, 4 çeyrek vardır.  
 C. 1 bütün 2 eş parçaya, diğeri 4 eş parçaya bölünmüştür.

2.

	İfadeler	D	Y
1	4 yarım, 2 bütün oluşturur.		✓
2	2 çeyrek, 1 yarım oluşturur.	✓	
3	2 bütün, 6 çeyrek oluşturur.	✓	

Yukarıdaki tabloda verilen ifadeler doğru (D) ve yanlış (Y) olarak değerlendirilmiştir.

Kaç numaralı değerlendirmelerde hata yapılmıştır?

- A. 1 ve 2  
 B. 1 ve 3  
 C. 2 ve 3

3. Aşağıdaki ifadelerden hangisi yanlıştır?

- A. İki eş yarım , bir bütün oluşturur.  
 B. Bir bütünün dört eş parçaya ayrılması ile çeyrek oluşur.  
 C. 1 yarım ile üç çeyrek bütün oluşturur.

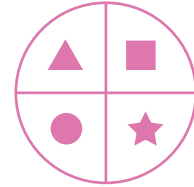
4.

- 4 bütün, 8 çeyrekten oluşur.  
 ▲ 2 çeyrek, 1 yarıma eşittir.  
 ● 3 yarım, 6 bütüne eşittir.  
 ★ 8 çeyrek, 2 bütün eder.

İrem'in defterine yazdığı ifadelerden hangileri doğrudur?

- A. ■ ve ●  
 B. ▲ ve ★  
 C. ■ ve ★

5.



Yukarıdaki verilen şekle göre hangisi yanlıştır?

- A. ▲ , çeyreği gösterir.  
 B. ● ile ★ birleşimi yarımı gösterir.  
 C. ▲ , ■ , ★' in birleşimi bütünü gösterir.

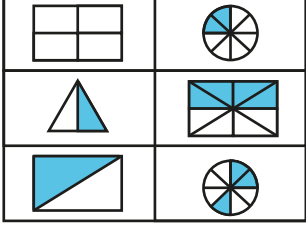
6.

- 12 yarım ● ● 3 bütün  
 12 çeyrek ● ● 2 bütün  
 8 çeyrek ● ● 6 bütün

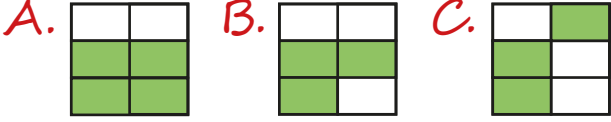
Yukarıdaki ifadeler doğru şekilde eşleştirildiğinde hangi şekil oluşur?

- A.  B.  C. 

7. Aşağıda verilen geometrik şekillerdeki boyalı alanlar yarımı temsil ediyorsa bu geometrik şeklin bulunduğu kutucuk yeşile boyanacaktır.



Buna göre, boyama yapıldığında tablonun görünümü nasıl olur?



8.



Didem

Armutların  
çeyreğini aldım.



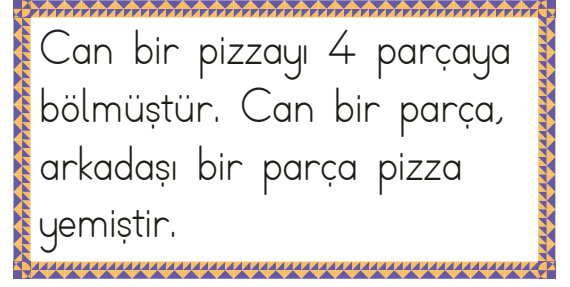
Barış

Armutların  
yanısını aldım.

Didem ve Barış'ın ifadelerine göre aşağıdaki ifadelerden hangisi doğrudur?

- A. Didem 3 armut almıştır.
- B. Barış 8 armut almıştır.
- C. Armutlar paylaşıldıktan sonra 1 armut kalmıştır.

9.

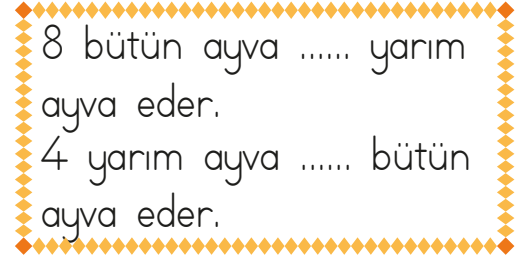


Bu bilgiye göre aşağıdakilerden hangisi doğru **değildir**?

- A. Bütün pizzanın yarısı yenmiştir.
- B. Can ve arkadaşı çeyrek pizza yemiştir.
- C. Can çeyrek pizza yemiştir.

sonerhoca.net

10.



Yukarıdaki boşluklara sırasıyla hangi sayılar gelmelidir?

- A. 12-6    B. 16-12    C. 16-2

11.



Esmâ, cevizlerinin çeyreğini oğlu Suat'a verince geriye 9 ceviz kalıyor. Esmâ'nın başlangıçta kaç cevizi vardır?

- A. 15    B. 12    C. 18