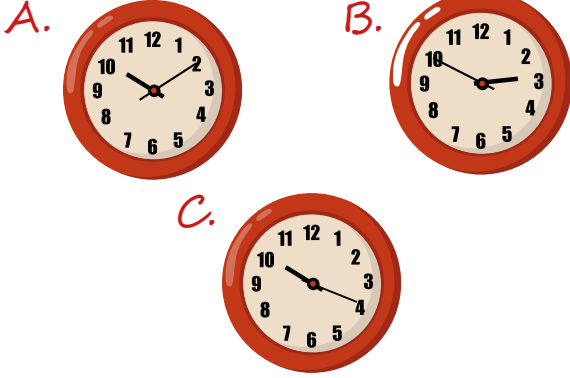


SH ZAMANI ÖLÇME - 1

1. Aşağıdaki saatlerden hangisi 02.50 olarak okunur?

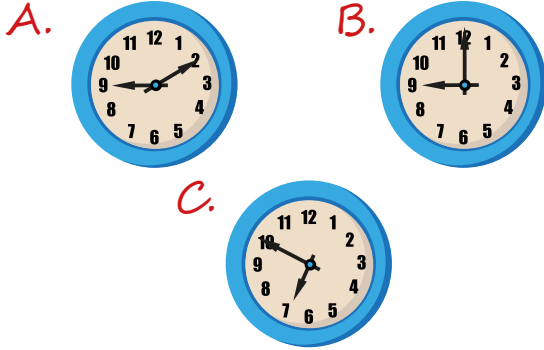


2.

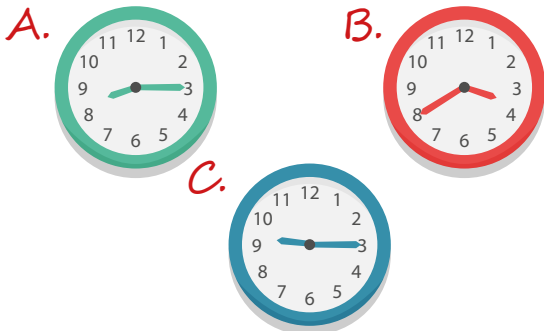
Saat 7'ye 10 kala derse başlıyoruz.



Derse başlama saatini aşağıdakilerden hangisi göstermektedir?



3. Aşağıdaki saatlerden hangisini "saat 9'u çeyrek geçiyor." diye okuruz?



4. "Üç yüz altmış beş gün altı saatlik" zaman dilimine verilen ad aşağıdakilerden hangisidir?

A. 1 yıl B. 1 hafta C. 1 ay

5.

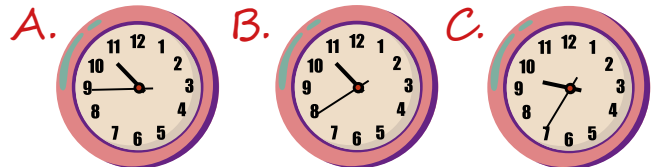


Yukarıdaki saatlerin okunuşları arasında aşağıdakilerden hangisi yoktur?

A. Yediyi kırk beş geçiyor.
B. Altıyı kırk geçiyor.
C. Yediye çeyrek var.

sonerhoca.net

6. Aşağıdaki saatlerden hangisi 22.45'i göstermektedir?



7.

- ◆ Bir yılda 12 hafta vardır.
- ◆ 1 saat 60 dakikadır.
- ◆ 1 yıl 365 gün 6 saattir.

Yukarıda verilen bilgilerden kaç tanesi doğrudur?

- A. 1 B. 2 C. 3

8. Deniz: Vapur yolculuğumuz 10.00'da başlayıp 8 saat sürdü. Buna göre Deniz'in yolculuğu saat kaçta bitmiştir?

- A. 20.00 B. 19.00 C. 18.00

9.

Bugün saat 09.15'te televizyonda çizgi film var.



Murat'ın söylediği çizgi filmin başlama saati hangi saat modelinde doğru olarak gösterilmiştir?



10. Yandaki saat, öğleden sonraki zamanı gösterdiğine göre saat kaçtır?



- A. 12.10 B. 16.10 C. 14.20

sonerhoca.net

11. Her gün düzenli olarak 30 dakika spor yapan kişi bir haftada kaç dakika spor yapmış olur?

- A. 70 B. 150 C. 210

12. Yaptıkları koşu yarışını Sefa 45 saniyede, Gözde 1 dakikada tamamladı. Buna göre Gözde yarışını kaç saniye sonra tamamlamıştır?

- A. 10 B. 15 C. 20