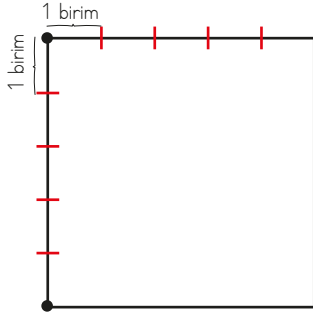


Uzun kenarı 8 birim, kısa kenarı 2 birim olan kağıdın yüzeyini kaplamak için kaç birimkare gerekir?

- A. 10      B. 12      C. 16

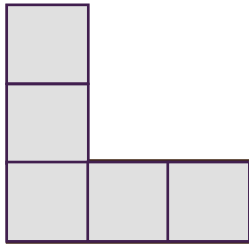
2. Aşağıdaki karenin her iki çizgi aralığı 1 birimdir.



Bu karenin alanı kaç birimkaredir?

- A. 25      B. 36      C. 49

3. Evimizin balkonu aşağıdaki şekil gibidir. Bu balkon birimkare karolarla döşenmek istenmektedir.

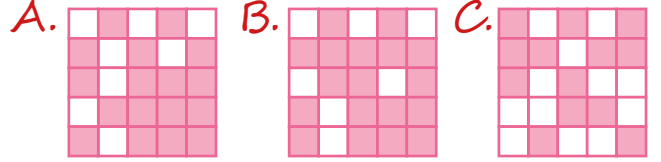


Balkonumuz için kaç birimkare karo gerekmektedir?

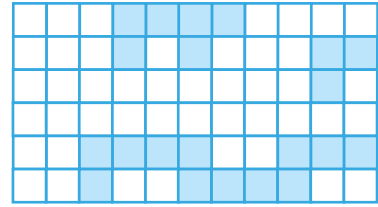
- A. 7      B. 6      C. 5

4. Deniz, aşağıdaki şekillerin 13 birimkare kadarını boyamak istemektedir.

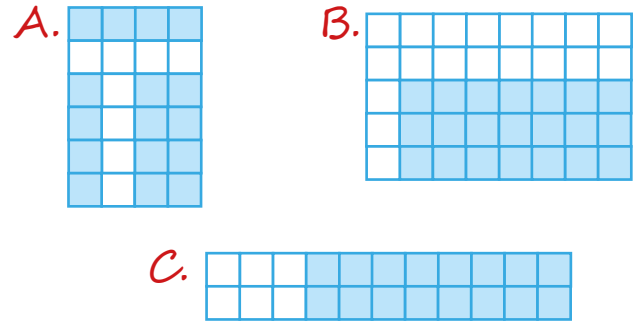
Buna göre Deniz'in boyadığı şekil aşağıdakilerden hangisi olabilir?




- 5.



Yukarıdaki boyalı alan aşağıdaki şekillerden hangisinin alanına eşittir?



- 6.

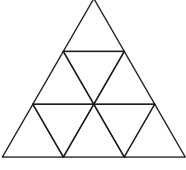


Yukarıdaki dikdörtgenin yüzeyi eş büyüklükteki mor kartonlarla kaplanıyor.

Dikdörtgenin yüzeyi kaç tane kartonla tamamen kaplanır?

- A. 24      B. 26      C. 28


7.



Yukarıdaki üçgen kaç tane ▲ ile tamamen kaplanır?

- A. 9      B. 10      C. 11

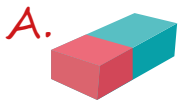
8.



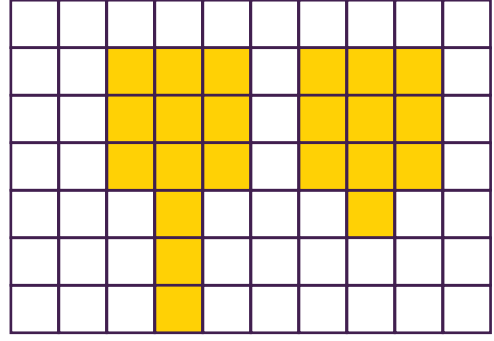
Yukarıdaki şekildeki yeşil alan kaç birim karedir?

- A. 11      B. 13      C. 15

9. Aşağıdaki malzemelerin hangisiyle bir alanı ölçmemiz daha kolaydır?



10.

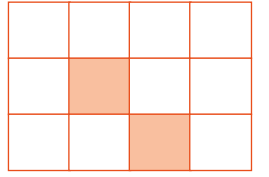


Kareli zeminde verilen şekillerin toplam alanı kaç birimkaredir?

- A. 18      B. 20      C. 22

sonerhoca.net

11. Yandaki masanın yüzey alanının çeyreği boyanmak istenirse kaç birimkare daha boyanması gerekir?



- A. 1      B. 2      C. 3

12. Aşağıdaki şekillerden hangisinin boyalı alanı 12 birimkareye eşittir?

