


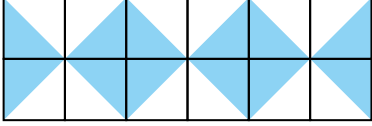
1.



Bir mahalledeki bazı bölümlerin kaplandığı alan gösterilmiştir. Buna göre alanları küçükten büyüğe sıralarsak 2. sırada hangisi olur?

A. Manav B. Kasap C. Market

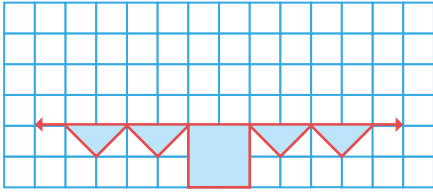
2.



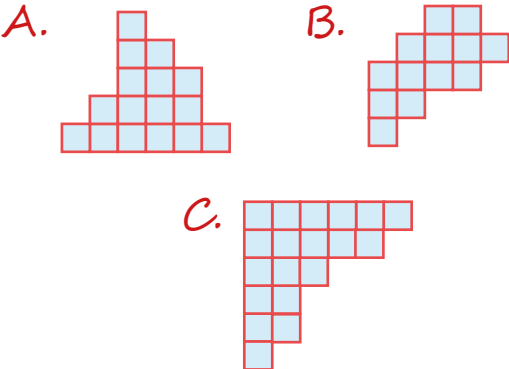
Yukarıdaki süslemede boyalı alanların toplamı kaç birim karedir?

A. 12 B. 8 C. 6

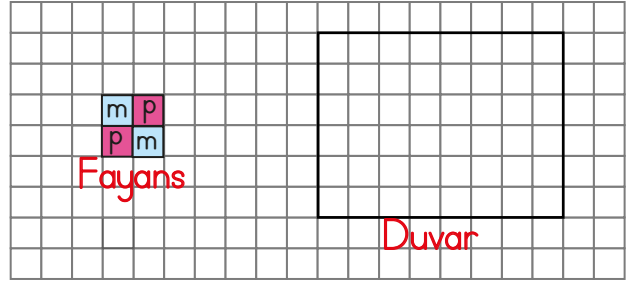
3.



Yukarıdaki şeklin doğruya göre simetriği çizildiğinde oluşan şeklin alanı, aşağıdaki şekillerden hangisinin toplam alanına eşittir?



4.



Yukarıdaki duvar, verilen fayans çeşidi kullanılarak tamamen kaplanıyor. Buna göre hangisi yanlıştır?

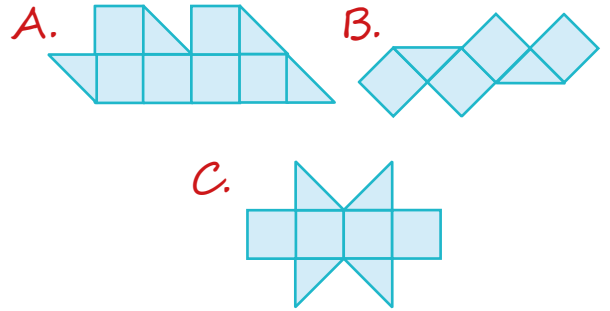
- A. Duvarı kaplamak için 12 tane fayans kullanılır.  
 B. Duvarda 12 birim mavi bölge olur.  
 C. Duvarda 24 birim pembe bölge olur.

senerhocca.net

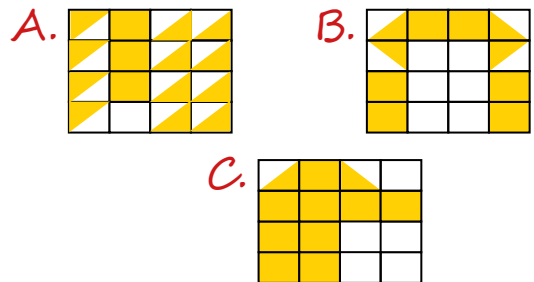
5.



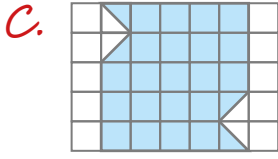
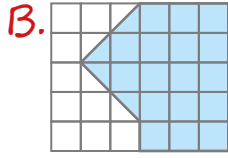
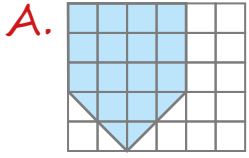
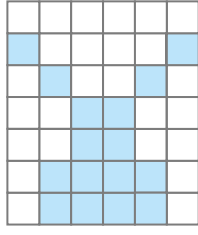
Aşağıdaki alanlardan hangisi yukarıdaki şeklin alanıyla aynı ölçüye sahiptir?



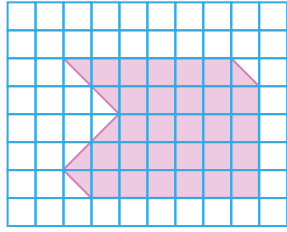
6. Verilen şekillerden hangisinde boyalı olmayan alan boyalı alana eşittir?




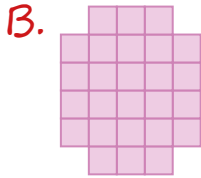
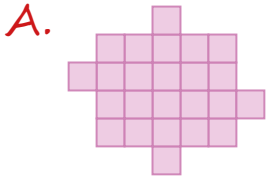
7. Yanda eş karelerden oluşmuş bir şekil verilmiştir. Bu şeklin alanı aşağıdakilerden hangisine eşittir?



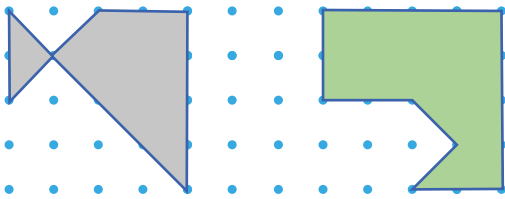
8. Yandaki şekilde boyalı alanların toplamı, aşağıdakilerden hangisinin toplam alanına eşittir?



sonerhoca.net



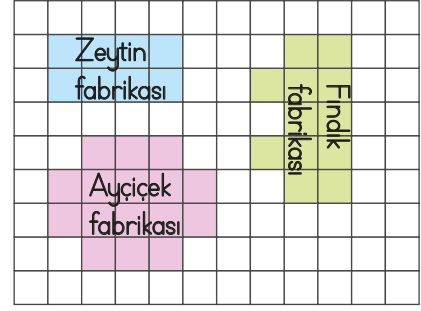
9. Her iki nokta arası 1 birimkaredir.



Buna göre iki şeklin alanları farkı kaç birimkaredir?

- A. 3 birim B. 4 birim C. 5 birim

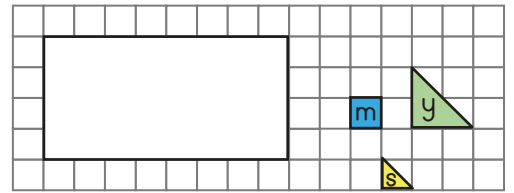
10.



Yukarıda bir alandaki fabrikalar gösterilmiştir. Buna göre hangisi yanlıştır?

- A. Ayçiçek fabrikasının kapladığı alan, zeytin fabrikasının kapladığı alanın 2 katından azdır.  
 B. Fındık fabrikasının kapladığı alan, zeytin fabrikasının kapladığı alanın 2 katından azdır.  
 C. Fındık fabrikasının kapladığı alan, ayçiçek fabrikasının kapladığı alandan azdır.

11.



Yukarıda bir dikdörtgenin kaplanacağı üç çeşit fayans verilmiştir.

Buna göre hangisi yanlıştır?

- A. Dikdörtgen, mavi fayanslardan 32 tanesi ile kaplanır.  
 B. Dikdörtgen, sarı fayanslardan 64 tanesi ile kaplanır.  
 C. Dikdörtgen, yeşil fayanslardan 48 tanesi ile kaplanır.