



SH UZUNLUK ÖLÇME - 1

1. Aşağıdakilerden hangisi standart olmayan uzunluk ölçme aracıdır?



3 silgi uç uca eklenerek bir ölçüm yapılırsa elde edilen uzunluk kaç cm olur?

A. 12

B. 7

C. 4

3. Ecem'in kulacı yaklaşık olarak 1 metredir. Sınıfımızın boyunu Ecem 6 kulaç olarak ölçmüştür. Buna göre sınıfımızın boyu tahmini olarak kaç metredir?



A. 10

B. 8

C. 6

4.

Metreden küçük uzunlukları ile ölçeriz.

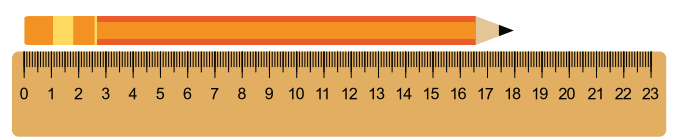
Yukarıdaki boşluğa hangisi yazılmalıdır?

A. kilometre

B. santimetre

C. kilogram

5.



Yukarıdaki cetvele göre kalemin boyu kaç santimetredir?

A. 18

B. 12

C. 15

6. I. Defterimin boyu

II. Kulenin boyu

III. Telefonumun boyu

IV. İki şehir arasındaki mesafe


Yukarıdaki ifadelerden hangisi ya da hangilerini ölçmek için santimetre kullanılır?

A. I, II

B. I, III

C. II, IV

7.



Yukarıdaki kutunun kenarı ataş ile ölçülmüştür. Buna göre bu kenarın uzunluğu hangisi olabilir?

- A. 10 metre B. 1 metre
C. 15 santimetre

8. Ölçülen uzunlukların hangisi, uzunluğuna uygun birimle eşleştirilmiştir?

- | | |
|----------------------|------------------------|
| cm | km |
| A. Parmağın uzunluğu | İki şehir arası mesafe |
| B. Kalemin boyu | Çantanın boyu |
| C. Binanın boyu | Kapının uzunluğu |

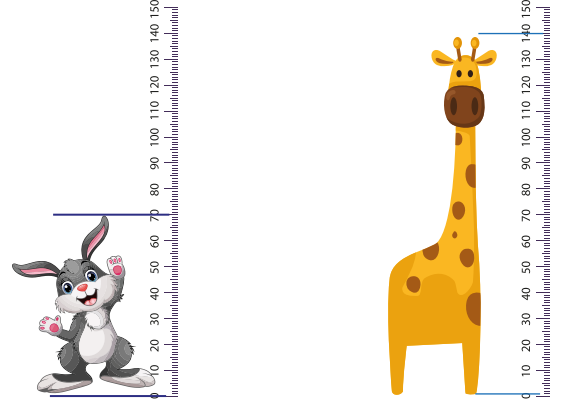
9.

3-J sınıfının boyu 14m, eni 800cm'dir.

3-J sınıfının eni ve boyu toplam kaç metredir?

- A. 16 B. 22 C. 25

10.



Yukarıda boy uzunlukları verilen zürafa ve tavşanın boy uzunlukları arasındaki fark kaçtır?

- A. 140 B. 70 C. 210

sonerhoca.net

11. 8 m 300 cm toplam kaç metre eder?

- A. 7 m B. 9 m C. 11 m

12. Buse, Ceren'den 19 santimetre daha kısadır. Buse'nin boyu 1 metre 46 santimetre olduğuna göre, Ceren'in boyu aşağıdakilerden hangisidir?

- A. 1 metre 37 santimetre
B. 1 metre 65 santimetre
C. 1 metre 74 santimetre