

1. Eylem, 1 metre uzunluğundaki ipleri uç uca ekleyerek odasının boyunu ölçmektedir. İpleri 8 kez uç uca ekledikten sonra 1 kez de yarısı kadar ip ekliyor.  
Buna göre odasının uzunluğunu kaç cm olarak ölçmüş olur?

- A. 850      B. 800      C. 8

2. Yandaki basketbol potasının yerden yüksekliği 2 m 20 cm'dir. Engin'in boyu 10 cm daha uzun olsaydı potaya yetişmesine 20 cm kalmış olacaktı. Buna göre Engin'in boyu ne kadardır?

- A. 1 m 70 cm      B. 1 m 80 cm  
C. 1 m 90 cm



sonerhoca.net

3. 8 metre kumaşın önce 251 cm'si kullanılmıştır. Kumaş 2. kez kullanıldığında geriye kumaşın yarısı kalmıştır. Buna göre 2. seferde kumaşın kaç cm'si kullanılmıştır?

- A. 149      B. 148      C. 147

4.



Bahçeye diktiğim 1 metre uzunluğundaki kavak, her ay 15 cm uzuyor.

Buna göre, 3 sene sonra kavak ağacının boyu hangi seçenekte doğru verilmiştir?

- A. 6 m 40 cm      B. 6 m 50 cm  
C. 6 m 60 cm

5.

Murat	Aynur	Pelin
5 m 15 cm	9 m 15 cm	7 m 20 cm

Üç arkadaş bahçelerinin çevresini sarmak için yukarıdaki uzunluklarda teller getirmişlerdir.

Bahçe için 20 m tel yeterli olduğuna göre ne kadar tel artmıştır?

- A. 2 m      B. 1 m 50 cm  
C. 250 cm

6.

5 Pantolon	10 m
4 Gömlek	12 m
3 Ceket	15 m

Terzi elindeki kumaşı yukarıdaki gibi kullanarak pantolon, gömlek ve ceket dikmiştir. Buna göre 1 pantolon, 1 gömlek ve 1 ceket için kaç metre kumaş kullanmıştır?

- A. 10 m      B. 12 m      C. 8 m




7.

Bir perdecî dükkanında 160 m kumaş bulunmaktadır. Kumaşların önce yarısını, daha sonra kalanın yarısını satmıştır.

Geriye kaç metre kumaş kalmıştır?

A. 80 B. 40 C. 120

8. Aşağıda Duru, Güneş ve Buğra'nın boylarının uzunlukları verilmiştir.

Duru	Buğra	Güneş
		
1 m 55 cm	1 m 65 cm	1 m 75 cm

Verilen bilgilere göre aşağıdakilerden hangisi yanlıştır?

- A. Buğra, Güneş'ten 10 cm kısa, Duru'dan 10 cm uzundur.  
 B. Üçünün boyları toplamı 4 m 95 cm'dir.  
 C. Güneş, Duru'dan 10 cm uzundur.

9.

Yarım metre uzunluğundaki bir ipin önce  $\frac{1}{5}$  'i kesiliyor. Daha sonra kalan kısmının  $\frac{1}{8}$  'i kopuyor.

Buna göre geriye kalan kısım 1 metreden kaç santimetre kısadır?

A. 35 B. 55 C. 65

10.

Öykünün boyu 135 cm'dir.


Öykünün boyu Zehra'nın boyundan 7 cm uzun, Mine'nin boyu Zehra'nın boyundan 3 cm kısadır.

Buna göre üçünün boyları toplamı kaç santimetredir?

A. 364 cm B. 376 cm C. 388 cm

11.

Başlangıç



Şekildeki koşu parkurunun 1 tur uzunluğu 275 metredir.

Bu parkurda yapılacak olan 800 metrelik bir koşunun bitiş yeri başlangıç yerine göre nerede olur?

- A. Başlangıç noktası ile aynı  
 B. 25 metre ilerisinde  
 C. 25 metre gerisinde