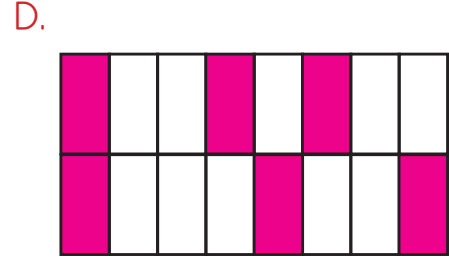
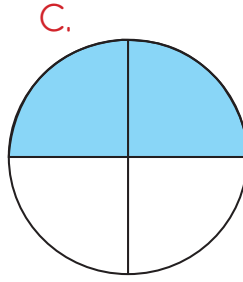
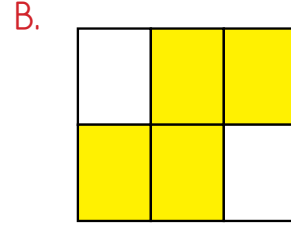
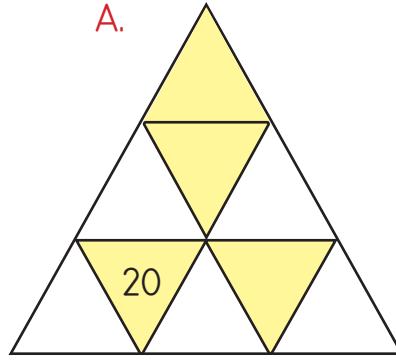




Verilen şekiller ile ilgili işlemler yapacağım. İşlemlerde bana yardımcı olur musun?



Efe, yukarıda şekille gösterilmiş kesirlerle çeşitli işlemler yapacaktır. Bu şekillerle ilgili aşağıda bilgiler verilmiştir.



Şekiller harflerle isimlendirilmiştir. A şeklinin boyalı kısmının sayı değeri yukarıda yazılmıştır.



B şeklinin tamamı A şeklinin tamamının onda birine eşittir.



C şeklinin boyalı kısımları B şeklinin boyalı kısımlarının $\frac{1}{3}$ 'ü kadardır.



D şekli A, B ve C şekillerinin boyalı kısımlarının sayı değerleri toplamına eşittir.

Yukarıdaki bilgilere göre aşağıdaki soruları cevaplayalım.

1. A şekli ve B şeklinin boyalı kısımlarının sayı değerlerinin toplamının $\frac{1}{4}$ 'ü kaçtır?

A. 8

B. 11

C. 23

D.40

2. B ve C şekillerinin tamamının sayı değerleri toplamının ikide biri kaçtır?

A. 13

B. 10

C. 7

D.5

3. D şeklinin boyalı kısmı hangi sayıya eşittir?

A. 6

B. 36

C. 96

D.126