

1. Kalanlı bir bölme işleminde bölen 8, bölüm 7'dir. Bölünen en fazla kaç olabilir?

- A. 56 B. 63 C. 64

2. Yanda bölme işleminde kalan en çok kaç olabilir?

$$\begin{array}{r} \dots\dots \\ \hline \dots\dots \end{array} \begin{array}{l} 3 \\ 8 \end{array}$$

- A. 1 B. 3 C. 2

3.



Bir sayının 7 katının 12 eksiği 93'tür.

Hayal'in bahsettiği sayı kaçtır?

- A. 15
B. 16
C. 17

4.

30

40

50

60

Yukarıdaki sayıların kaçını hem 2'ye hem 3'e kalansız bölünebilir?

- A. 2 B. 3 C. 4

5.

$$A + B + B = 56$$




Yukarıdaki işlemde $A = 6$ olduğuna göre $A \times B$ kaçtır?

- A. 100 B. 125 C. 150

6. Yandaki bölme işlemine göre bölen sayı en az kaç olabilir?

$$\begin{array}{r} \dots\dots \\ \hline \dots\dots \end{array} \begin{array}{l} \dots\dots \\ 4 \end{array}$$

- A. 4 B. 5 C. 6




7.		$35 \div 5$	\rightarrow	$56 \div 8$
		$90 \div 3$	\rightarrow	$120 \div 4$
		$66 \div 2$	\rightarrow	$96 \div 3$

Yukarıdaki işlemler sonuçları aynı olacak şekilde eşleştirilmiştir. Hangi eşleştirme yanlıştır?

- A.  B.  C. 

8. Yazı tahtasındaki çarpma işleminin doğruluğu aşağıdaki öğrencilerden hangisinin yaptığı işlemle kontrol edilemez?

$$9 \times 6 = 54$$

- A.  $54 \div 6 =$ B.  $54 \div 9 =$
- C.  $9 \div 6 =$

9.

$$35 \times 5 = \square \begin{array}{|l} 7 \\ \hline \star \end{array}$$

Yukarıdaki işlem zincirine göre \star kaçtır?

- A. 15 B. 20 C. 25

10. Bir çiçekçi 40 çiçeği altışarlı demetler halinde paketleniyor. Demetleri 15 liradan, kalan çiçekleri de tanesi 3 liradan satıyor.

Buna göre bu çiçekçi toplam kaç lira kazanmıştır?

- A. 102 B. 124 C. 136

11. Yandaki bölme işlemine göre \square gelebilecek sayıların toplamı kaçtır?

$$\begin{array}{r} \square \\ 7 \overline{) \square} \\ \underline{\square} \\ \square \end{array}$$

- A. 35 B. 21 C. 28

12. Bir markette yandaki şeker çuvallarından 8 tane vardır. Çuvallardaki şekerin 540 kg'ı satıldı. Geriye kalan şeker altışar kg'lık poşetlere konuldu.



Geriye kalan şeker kaç tane poşete konulmuştur?

- A. 20 B. 30 C. 40