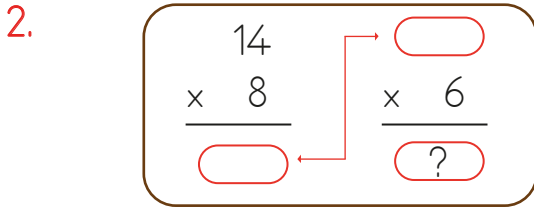


Yukarıdaki işlemin sonucu kaçtır?

- A. 420 B. 450 C. 480



Kutudaki işlemler arasındaki ilişkiye göre “?” yerine aşağıdakilerden hangisi yazılmalıdır?

- A. 628 B. 672 C. 724

3. “AB” iki basamaklı en büyük çift doğal sayıdır. Buna göre yandaki çarpma işleminin sonucu aşağıdakilerden hangisidir?

$$\begin{array}{r} AB \\ \times 5 \\ \hline \end{array}$$

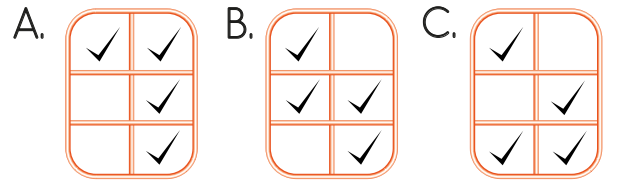
- A. 495 B. 490 C. 485

4.

24×10	30×10
2×100	5×100
17×10	20×30

- 300 240 600 500

Yukarıdaki sayılar tablodaki hangi işlemlerin sonucudur?



5.

\times	6	10	14
20		●	
25			■
30	★		

Yukarıdaki çarpım tablosuna göre ● + ★ + ■ işleminin sonucu hangi seçenekte doğru olarak verilmiştir?

- A. 840 B. 780 C. 730

6.

$15 \times 10 = 150$	$18 \times 5 = 80$
$13 \times 10 = 130$	$20 \times 5 = 110$

Doğru işlemlerin kutusu boyanırsa tablonun görünümünü hangisi gibi olur?

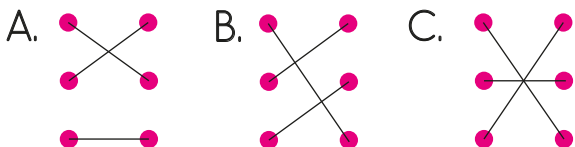


7. Tanesi 118 TL'den 5 pantolon ve tanesi 204 TL'den 2 tane takım elbise alan biri toplam kaç TL para öder?

A. 590 B. 796 C. 998

8. 23×13 ● ● 504
 28×18 ● ● 425
 17×25 ● ● 299

Çarpma işlemleri, sonuçları ile eşleştirilirse şeklin görüntüsü hangisi olur?



9.

	864
46×12	775
24×19	456
31×25	629
37×17	552

Yukarıdaki çarpma işlemleri ve sonuçları eşleştirilirse hangi sonuç dışarda kalır?

A. 552 B. 456 C. 864

sonerhoca.net

10. Aşağıdaki çocuklardan hangisinin yaptığı işlemin sonucu daha büyüktür?



19×22



23×18



24×17

11.



8×7 işleminde 1. çarpanın değeri 1 artarsa sonuç

Yukarıdaki ifade aşağıdakilerin hangisiyle tamamlanabilir?

A. 8 artar. B. 7 artar. C. 1 artar.