

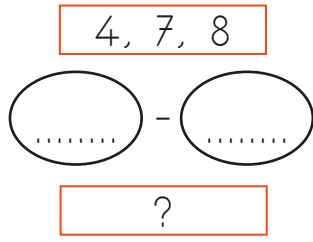
1.



Yukarıdaki elmalar üzerinde verilen rakamları birer kez kullanarak yazılabilecek en büyük ve en küçük sayıların farkı kaçtır?

- A. 693 B. 456 C. 432

2. Yandaki verilen rakamları birer kez kullanarak üç basamaklı en büyük çift doğal sayı ile



üç basamaklı en küçük tek doğal sayıyı oluşturup çıkardım. Sonucu "?" ile gösterilen yere yazdım. "?" ile gösterilen yere yazdığım sayı kaçtır?

- A. 423 B. 396 C. 387

3.



Cebimde 265 Kr. daha olsaydı kitabı alabilecektim.



575 Kr

Akın'ın kaç kuruşu vardır?

- A. 300 B. 310 C. 320

4.

-	120	160	280
490		▲	210
515	●	355	
430	310		■

Yukarıdaki tabloda ▲, ●, ■ yerine yazılması gereken sayılar aşağıdakilerin hangisinde doğru verilmiştir?

- A. $\frac{\triangle}{310}$ $\frac{\bullet}{320}$ $\frac{\blacksquare}{100}$
 B. 250 315 120
 C. 330 395 150

5.

$$\triangle < 500 - 273$$

Yukarıdaki işleme göre ▲ yerine yazılabilecek sayı kaçtır?

- A. 226 B. 227 C. 228

6. Yandaki çıkarma işlemine göre ▲ - ■ işleminin sonucu kaçtır?

$$\begin{array}{r} 3 \triangle 6 \\ - 154 \\ \hline \blacksquare 62 \end{array}$$

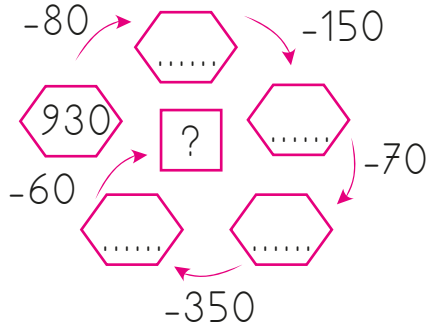
- A. 2 B. 1 C. 0

7. Yandaki işlemin sonucu en yakın onluğa yuvarlanarak tahmin edildiğinde gerçek sonuç ile tahmini sonuç arasındaki fark kaçtır?

$$\begin{array}{r} 567 \\ - 328 \\ \hline \end{array}$$

- A. 1 B. 5 C. 9

8.



Yukarıdaki çıkarma işlemlerini zihiden yapan Derya "?" ile gösterilen yere hangi sayı yazmıştır?

- A. 220 B. 260 C. 330

9.

$$\begin{array}{r} \boxed{745} - \boxed{329} \\ \hline \boxed{} - \boxed{218} = \boxed{?} \end{array}$$

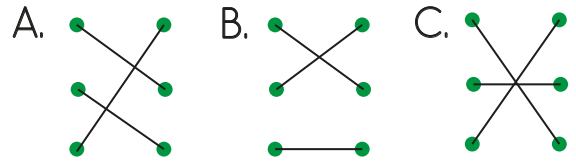
Yukarıdaki çıkarma işlemlerine göre "?" ile gösterilen yere hangi sayı yazılmıştır?

- A. 157 B. 198 C. 226

10.

$578-213$	•	•	İki yüz otuz bir
$320-89$	•	•	Üç yüz altmış beş
$510-280$	•	•	İki yüz otuz

Yukarıda verilen işlemler sonuçlarıyla eşleştirildiğinde hangi seçenek doğru olur?



11.

Baloncucu, balonlarının üzerindeki rakamları birer kez kullanarak üç basamaklı en büyük çift sayı ve üç basamaklı en küçük tek sayı yazacaktır. Baloncunun yazacağı sayıların farkı kaçtır?



- A. 503
B. 534
C. 545