


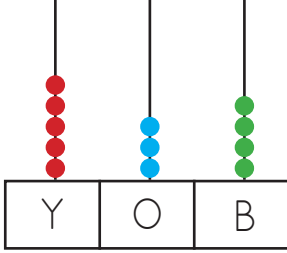
1.



Taban bloklarıyla modellenen sayı aşağıdakilerden hangisidir?

- A. 437 B. 348 C. 473

2.



Yukarıdaki abaküste gösterilen sayı kaçtır?

- A. 436 B. 534 C. 535

3. Eren birler basamağı 6, yüzler basamağı 3, onlar basamağı 2 olan sayı kadar fındık yemiştir.

Buna göre Eren kaç fındık yemiştir?

- A. 236 B. 632 C. 326

4. 392 sayısının en yakın yüzlüğe yuvarlanmış hali hangisidir?

- A. 300 B. 390 C. 400

5.



Yukarıdaki ifadede "?" ile gösterilen yere hangi sembol getirilmelidir?

- A. > B. < C. =


6.



Yukarıdaki sayılarla oluşturulabilecek en küçük üç basamaklı sayı kaçtır?

- A. 105 B. 150 C. 10

7.



Yukarıdaki sayının onluğa yuvarlanmış hali aşağıdakilerden hangisidir?

- A. 250 B. 260 C. 300

8.



Yukarıdaki rakamları birer kez kullanarak yazılabilecek üç basamaklı en küçük sayının yüzler basamağındaki rakam kaçtır?

- A. 0 B. 1 C. 2

9.



"48 - 42 - 36 - 30"

Yukarıdaki örüntünün kuralı aşağıdakilerden hangisidir?

- A. İleriye doğru altışar ritmik sayma
 B. Geriye doğru altışar ritmik sayma
 C. Geriye doğru kırk sekizer ritmik sayma

10.

Tek rakamlar: 1, 3, 4, 5, 7, 8, 9

Canan tek rakamları söylerken hangi rakamları yanlış söylemiştir?

- A. 1-3 B. 5-9 C. 4-8

11. V + V işleminin sonucu kaçtır?

- A. VI B. XV C. X

12. Aşağıdaki ritmik saymalardan hangisinin kuralı farklıdır?

- A. 310 - 410 - 510 - 610 - 710
 B. 115 - 215 - 315 - 415 - 515
 C. 250 - 260 - 270 - 280 - 290

13. $505 < A < 509$ sıralamasına göre A yerine aşağıdakilerden hangisi yazılmaz?

- A. 510 B. 508 C. 506

14. 728 sayısının onlar basamağındaki rakamın sayı değeri kaçtır?

- A. 200 B. 20 C. 2

sonerhoca.net

15.

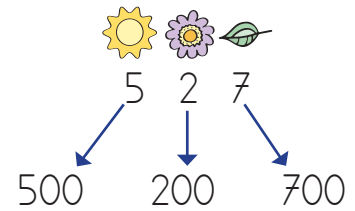


12'den başlayarak 60'a kadar (60 dahil) ileriye doğru altışar ritmik sayma yaptım.

Buna göre Cem ritmik sayma yaparken kaç tane sayı söylemiştir?

- A. 9 B. 8 C. 7

16.



Hangisinin basamak değeri doğrudur?

- A. B. C.