

1. Aşağıdaki sözcüklerden hangisinin ilk hecesi çıkarılırsa anlamlı bir sözcük oluşur?

- A. sonbahar
B. değirmen
C. sözcük

2.



Yukarıdakilerden hangisinin adındaki hece sayısı diğerlerinden fazladır?

- A. ★ B. ● C. ●

3. Aşağıdaki sözcüklerden hangisinin hece-lerindeki harf sayıları birbirine eşittir?

- A. yengeç
B. arı
C. deniz

4. Aşağıdaki satır sonuna sığmayan sözcüklerden hangisi yanlış bölünmüştür?

- A.ke-
di.....
- B.seh-
pa.....
- C.gör-
üntü.....

5.



Hangi geometrik şeklin içinde yazan hem hece hem sözcüktür?

- A. Kare B. Üçgen C. Çember

6. Aşağıdaki sözcüklerin hangisinde "ma" hecesi yoktur?

- A. makas
B. saman
C. yama

7.

Hecedeki harfler	Hece
Üç sessiz, bir sesli harf	
Bir sesli, bir sessiz harf	
Bir sesli, iki sessiz harf	

Yukarıdaki tabloda verilen boşluğa sırasıyla hangi heceler yazılmalıdır?


- A. • iki
• altı
• beş
- B. • asma
• maya
• üç
- C. • mart
• el
• kum

8. Satıra sığmayan sözcükler bölünürken satır sonuna tek harf bırakılmaz.

Buna göre hangisinin adı satır sonunda **bölünemez**?

- A. Kaplumbağa B. Arı
C. Koyun

9.




Görselleri verilen sözcüklerden hece sayıları aynı olanlar işaretlenirse şeklin görüntüsü nasıl olur?

- A.

 B.

 C.

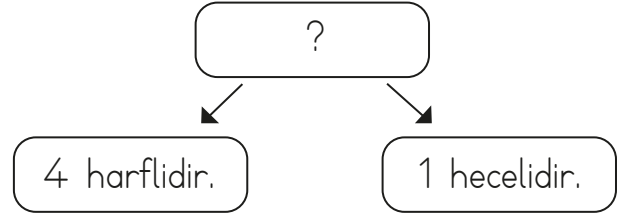
10.



Aşağıdaki sözlerden hangisi yanda verilen görselin adındaki ikinci hece ile başlamıştır?

- A. ahır B. tarak C. para

11.



Yukarıdaki şemada “?” yerine hangi sözcük gelebilir?

- A. baba B. dört C. elma

12. Aşağıdaki kelimelerden hangisi hecelerine **yanlış** ayrılmıştır?

- A. te-lev-iz-yon
B. ga-ze-te
C. il-ko-kul

13.

Aklımda birçok soru var.



Yukarıdaki cümlede yer alan sözcükler heceleri yönünden incelenmiştir.

Buna göre aşağıdaki sonuçlardan hangisi **yanlıştır**?

- A. 2 heceli iki sözcük bulunmaktadır.
B. 3 heceli iki sözcük bulunmaktadır.
C. 1 heceli bir sözcük bulunmaktadır.