





1. Aşağıdaki ölçülerden hangisi daha küçüktür?

- A. 5000 mL + 8 L
- B. 3800 mL + 7200 mL
- C. 6000 mL + 5300 mL
- D. 4 l + 3000 mL + 2000 mL

2. Aşağıdaki öğrenci ifadelerinden hangisi yanlıştır?

- A.  4 çeyrek litre 1000 mL'ye eşittir.
- B.  12 yarım litre 5 L'den büyüktür.
- C.  20 çeyrek L, 5 yarım L'ye eşittir.
- D.  1000 mL, 1 L'ye eşittir.

sonerhoca.net

3.

30 tane 500 mL kaç çeyrek litreye eşittir?



Aylin Öğretmen'in bu sorusunun cevabı ne olabilir?

- A. 30
- B. 45
- C. 60
- D. 90

4.



Orhan, hastalandığında doktorun verdiği şurup-tan içmeye başlamıştır. Doktor 250 mL olarak verdiği şurubu günde iki kere 5 mL içerek bitirmiştir. Buna göre şurup kaç günde bitmiştir?

- A. 10
- B. 15
- C. 20
- D. 25

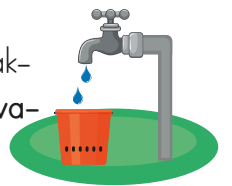
5.

- | | |
|----------------|-------------|
| 8 çeyrek litre | 8700 mL |
| 8 L 700 mL | 2000 mL |
| 23 yarım litre | 11 L 500 mL |

Yukarıda verilen kutularda aynı miktarı ifade eden ölçüler eşleştirilirse şekil nasıl görünür?

- A.
- B.
- C.
- D.

6. Yandaki musluk 5000 mL kovayı 60 dakikada doldurmaktadır. Buna göre 15 L'lik kovayı ne kadar sürede doldurur?



- A. 2 sa. 40 dk.
- B. 3 sa.
- C. 3 sa. 30 dk.
- D. 4 sa.

7. Aşağıda verilen dönüşümlerden hangisi yanlıştır?

A. $\frac{2}{4}$ L = 500 mL

B. $\frac{3}{12}$ L = 250 mL

C. $\frac{6}{10}$ L = 600 mL

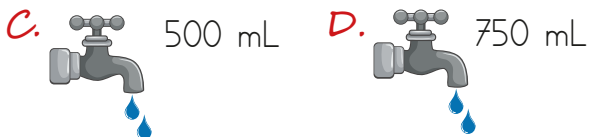

D. $\frac{3}{5}$ L = 400 mL

8. Yandaki görselde verilen yağ çeyrek litrelik şişelere doldurulacaktır. Bu işlem için toplam kaç şişe gerekmektedir?



- A. 60 B. 70 C. 80 D. 90

9. Aşağıdaki muslukların yarım saatte damlattığı su miktarları gösterilmiştir. Buna göre hangi musluk 6 saatte toplam 6000 mL su damlatır?



10. 1250 mL + 3750 mL + 2000 mL
Yukarıda verilen işlemin sonucu için aşağıdakilerden hangisi doğrudur?

A. 6000 mL

B. 6500 mL

C. 7 L

D. 8 L

11.



Bir sürahi 10 bardak su ile doldurmaktadır. Sürahide 3800 mL su olduğuna göre bir bardak ne kadar su alır?

A. Çeyrek litre

B. Çeyrek litreden
130 mL fazla

C. Yarım litre

D. Yarım litreden
130 mL eksik

12.

■ 2000 mL

■ 3700 mL

■ 2300 mL

Yukarıdaki sıvıların tamamı 10 yarım litreden kaç litre fazladır?

A. 3

B. 4

C. 5

D. 6