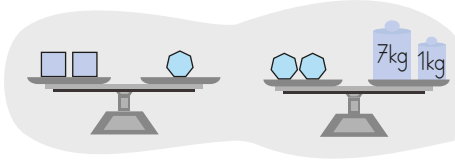


1.



Yukarıdaki dengede olan terazilere göre \square kaç kilogramdır?

- A. 2 B. 3 C. 4

2. Verilen asansör kabine 75, 85 ve 80 kg'lık üç kişi binmiştir. Asansör kapanmadan binen 4. kişi nedeniyle asansör uyarı vermiştir.



Buna göre asansöre son binen kişi en az kaç kg'dır?

- A. 59 B. 60 C. 61

3.

| | 500 g | 1 kg | 2 kg |
|--------|-------|------|------|
| 3 tane | | ● | |
| 2 tane | | | ★ |
| 9 tane | ⬡ | | |

Yukarıdaki tabloda bazı varlıklar sembollerle ifade edilmiştir. Varlıkların ağırdan hafife doğru sıralaması hangi seçenekte verilmiştir?

- A. ⬡ ★ ●
 B. ★ ● ⬡
 C. ● ⬡ ★

4. Hande Hanım, malzeme listesine uygun şekilde malzemeleri bir kaba koyarak tartıyor. Tartım sonucu 815 gram geliyor. 1 adet yumurta 30 g olduğuna göre kap kaç gramdır?

| Çilekli kek Malzeme Listesi | |
|-----------------------------|---------------|
| 50 g | çilek |
| 100 g | yağ |
| 220 g | şeker |
| 350 g | un |
| 2 adet | yumurta |
| 10 g | kabartma tozu |

- A. 25 B. 35 C. 45

5.

| KASAP | |
|---------|------|
| Kanat | 40TL |
| Pirzola | 90TL |
| Bonfile | 80TL |

Yukarıda bir kasaptaki etlerin 1 kilogramının fiyatları gösterilmiştir. Buna göre 2 kg kanat, yarım kg pirzola, 250 g bonfile alan Sefa kaç TL ödeme yapar?

- A. 105 TL B. 120 TL C. 145 TL

6.

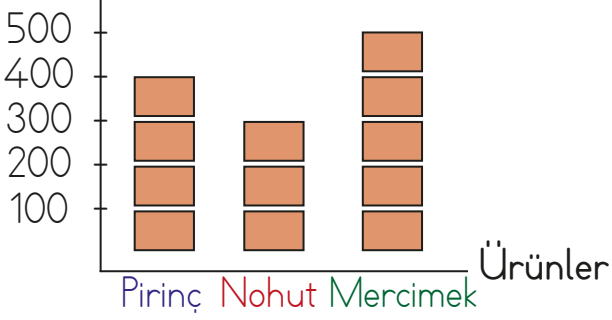
| | | |
|----------|---------|-----------|
| Portakal | ●●●●◆◆◆ | ★ – 150 g |
| Kiraz | ◆◆◆◆◆★ | ● – 100 g |
| Armut | ★★★●◆◆ | ◆ – 50 g |

Yukarıdaki tabloda bir marketteki satışlar gösterilmiştir.

Buna göre çoktan aza doğru satışları sıralarsak hangisi ilk sırada olur?

- A. B. C.

7. Kütle(g)



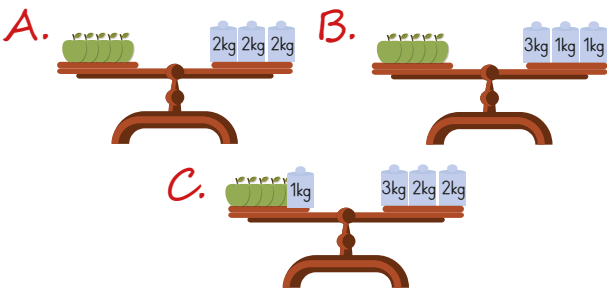
(Her şekil 100 gramı göstermektedir.)

Yukarıdaki şekil grafiğinde İpek'in aldığı ürünlerin kütleleri gösterilmiştir.

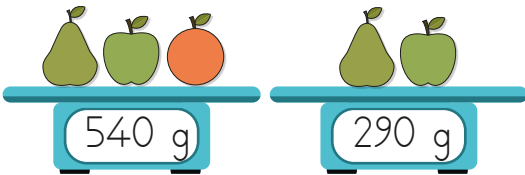
Hangisi grafiğe göre doğru bir bilgidir?

- A. Mercimeğin 100 gramı kullanılırsa pirinçle eşit kütleye gelir.
- B. Mercimeğin kütlesi 400 gramdır.
- C. 100 gram nohut 3 liraya alınırsa nohut için toplam 300 lira para ödenir.

8. Elmaların toplam kütlesi 6 kg'dır. Hangi tartı hatalıdır?



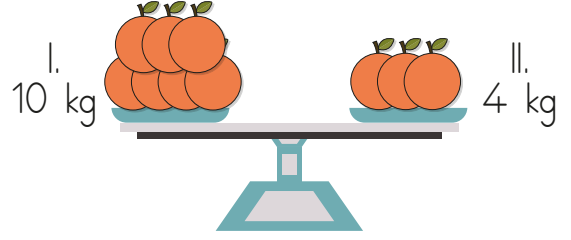
9.



Yukarıda verilen tartmalara göre portakal kaç gramdır?

- A. 230
- B. 250
- C. 270

10.



Yukarıdaki terazinin dengede olabilmesi için aşağıdakilerden hangisini yapmak yanlış olur?

- A. II. kefeye 6 kg daha portakal eklemek
- B. I. kefedden 3 kg portakal alıp, II. kefeye eklemek.
- C. I. kefedden 4 kg portakal almak

11.




Yandaki paketin kütlesini 500 gram olarak tahmin ettim. Tarttığım zaman 30 gram hata yaptığımı gördüm.



Büşra'nın ifadesine göre paketin kütlesi en az kaç gram olabilir?

- A. 470
- B. 450
- C. 530

12.



Yukarıda verilen terazide 5 armut vardır. Armutların bir tanesi 200 gramdır. Buna göre terazinin diğer kefesine hangi ağırlıklar gelmelidir?

- A. 500g
- B. 1kg
- C. 500g 250g