




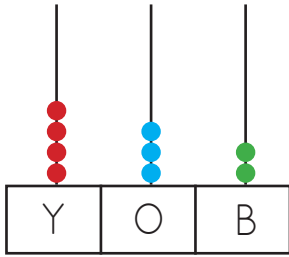
1.

$\begin{array}{r} 452 \\ + 245 \\ \hline \end{array}$ 	$\begin{array}{r} 449 \\ + 249 \\ \hline \end{array}$ 	$\begin{array}{r} 442 \\ + 264 \\ \hline \end{array}$ 
---	---	---

Yukarıdaki toplama işlemlerinin sonuçlarından hangisi daha büyüktür?

- A.  B.  C. 

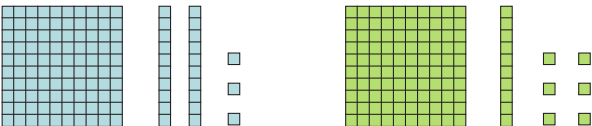
2.



Yukarıdaki abaküste gösterilen sayının 254 ile toplamından elde edilen sonuç kaçtır?

- A. 686 B. 644 C. 578


3.



Yukarıda iki ayrı onluk bloklarıyla sayılar oluşturulmuştur. Bu sayıların toplamı kaçtır?

- A. 268 B. 245 C. 239

4. Aşağıda, kutularda şeker sayıları verilmiştir.



Bu üç kutudaki şekerlerin toplamı kaçtır?

- A. 643 B. 685 C. 721

sonerhoca.net

5.



Dört yüz kırk yedi

Semih

Üç yüz doksan iki



Semih ile Sinem'in söylediği sayıların toplamı kaçtır?


- A. 839 B. 776 C. 754

6. $415 + 188 + 125 = 188 + 125 + ?$

Yukarıdaki eşitlikte "?" yerine aşağıdakilerden hangisi gelmelidir?

- A. 125 B. 188 C. 415

7.



$$\begin{array}{r} 452 \\ + 245 \\ \hline \end{array}$$

Yukarıdaki toplama işleminde gerçek sonuç ile tahmini sonuç arasındaki fark kaçtır?

- A. 2 B. 3 C. 4

8.

$$425 + ? = 548$$

Yukarıdaki toplama işleminde verilmeyen toplanan aşağıdakilerden hangisidir?

- A. 973 B. 418 C. 123

9.

$$127 + (216 + 205) \quad \text{1}$$

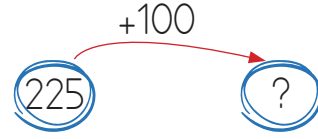
$$(333 + 201) + 155 \quad \text{2}$$

$$216 + (205 + 127) \quad \text{3}$$

Yukarıdaki toplama işlemlerinden hangilerinin sonucu aynıdır?

- A. 1-2 B. 2-3 C. 1-3

10.



Yukarıdaki işlemleri zihinden yapan Alev "?" ile gösterilen yere hangi sayıyı yazmıştır?

- A. 325 B. 335 C. 345

11. ★ < 335 + 259

Yukarıda verilenlere göre ★ yerine aşağıdakilerden hangisi gelemez?

- A. 600 B. 500 C. 400

12.



130 lira



?

Yukarıdaki iki topu alan bir kişi 280 lira ödeme yapmıştır. Buna göre fiyatı verilmeyen top kaç liradır?

- A. 120 B. 150 C. 180

13. Sema 125 ve 98 sayfalık iki kitap okudu. Sema tahmini olarak kaç kitap okumuştur?

- A. 210 B. 220 C. 230