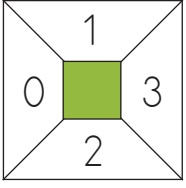
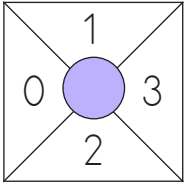


Belinay, Sinem, Azra kendi aralarında "Sayı Oluştur" adlı bir oyun oynamıştır. Bu oyunun kuralları aşağıda verilmiştir:

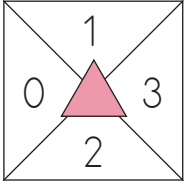
- Bir torbaya üçgen, daire ve kare sembolleri atılacaktır. Torbadan her kişi ikişer sembol çekecektir.
- Çekilen semboller katlanmış kağıtların üzerine koyulacaktır.
- Üst üste konulan semboller üzerine yazılan sayılar toplanıp skor tablosuna yazılacaktır.
- En büyük skora ulaşan oyunu kazanacaktır.



Yandaki katlanmış kağıdın ortasına kare konulunca çevresinde yazılı rakamlar kullanılarak oluşturulabilecek üç basamaklı en büyük çift sayı karenin ortasına yazılacaktır.



Yandaki katlanmış kağıdın ortasına daire konulunca çevresinde yazılı rakamlar kullanılarak oluşturulabilecek üç basamaklı en büyük tek sayı dairenin ortasına yazılacaktır.



Yandaki katlanmış kağıdın ortasına üçgen konulunca çevresinde yazılı rakamlar kullanılarak oluşturulabilecek üç basamaklı en küçük çift sayı üçgenin ortasına yazılacaktır.

1, 2 ve 3. soruları yukarıda verilenlere göre cevaplayalım.

1. Belinay, torbadan kare ve üçgen sembollerini çekmiştir. Buna göre Belinay kaç puan almıştır?

A. 422

B. 425

C. 424

2. Azra, torbadan daire ve üçgen sembollerini çekmiştir. Buna göre Azra kaç puan almıştır?

A. 420

B. 423

C. 428

3. Sinem, 641 puan aldığına göre torbadan hangi sembolleri çekmiştir?

A.  

B.  

C.  