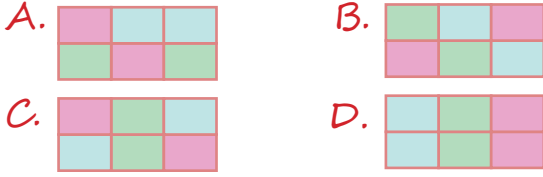


SH ZAMANI ÖLÇME - 2





1.

4 saat	3600 sn.	3 hafta
21 gün	60 dk.	240 dk.

Yukarıdaki zaman dilimlerinde aynı zaman dilimini ifade eden kutular boyandığında tablonun son görünümü nasıl olur?




2.

50 dk + 60 sn = 1 saat	
360 dk + 120 dk = 8 saat	
15 saat + 9 saat = 1 gün	
720 saat = 1 ay	

Yusuf, tablodaki eşitliklerden doğru olanların meyvelerini seçecektir.

Buna göre Yusuf hangi meyveleri seçer?



3.



Mehtap, bir soruyu 90 saniyede çözmektedir.

Buna göre Mehtap 100 soruyu kaç dakikada çözer?

A. 100 B. 150 C. 200 D. 250

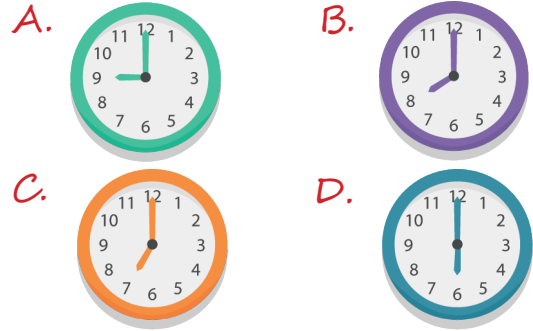
4.

Bir iş makinesi saat 15.25'te çalışmaya başlamıştır.

Bu iş makinesi 360 dakika 180 saniye çalıştığı zaman saat kaç gösterir?

A. 21.28 B. 21.50
C. 21.55 D. 22.00

5. Saat 23.00'dan 420 dakika sonrasını aşağıdaki saatlerden hangisi göstermektedir?



sonerhoca.net

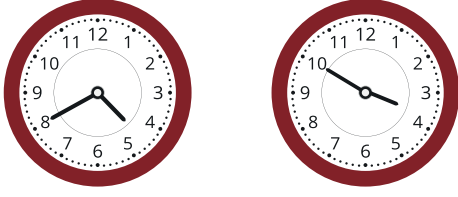
6.

$$\begin{array}{r} 29 \text{ sa. } 43 \text{ dk. } 40 \text{ sn.} \\ + 39 \text{ sa. } 45 \text{ dk. } 30 \text{ sn.} \\ \hline \end{array}$$

Yukarıdaki işlemin sonucu aşağıdakilerden hangisidir?

A. 2 gün 18 sa. 25 dk. 50 sn.
B. 2 gün 21 sa. 29 dk. 10 sn.
C. 3 gün 1 sa. 10 dk. 10 sn.
D. 3 gün. 20 sa. 27 dk. 20 sn.

7.



Yukarıdaki iki saatten birincisi güneş doğmadan önceki zamanı, ikincisi ise öğleden sonraki vakti göstermektedir. Buna göre bu iki saat arasında kaç dakika vardır?

- A. 600 dk. B. 650 dk.
C. 670 dk. D. 730 dk.

8. 6 günde bir nöbet tutan bir hemşire ilk nöbetini 25 Mayıs'ta tutuyor. Buna göre bu hemşire 8. nöbetini hangi gün tutar?

- A. 31 Mayıs B. 24 Haziran
C. 30 Haziran D. 6 Temmuz

9.

- 50 dk. 30 sn.
► 1 sa. 30 dk. 40 sn.
► 2 sa. 20 dk. 40 sn.



Yukarıda Mehmet'in 3 günde kitap okuduğu süreler verilmiştir. Buna göre Mehmet bu üç günde toplam kaç sa. kaç dk. kaç sn. kitap okumuştur?

- A. 4 sa. 10 dk. 10 sn. B. 4 sa. 41 dk. 50 sn.
C. 5 sa. 40 dk. 10 sn. D. 5 sa. 41 dk. 50 sn.

10. Son kullanma tarihi 22.01.2022 olan bir ürünü Eray son kullanma tarihinden 4 ay 5 gün önce almıştır. Buna göre bu ürünü Eray hangi tarihte almıştır?

- A. 17.09.2021 B. 22.10.2022
C. 17.10.2021 D. 22.09.2022


11.

Bir yarış Ozan 5 dakikada, Kaan 6 dakikada bitirmiştir.

Yarışı kim ne kadar süre farkla kazanmıştır?

- A. Ozan 30 saniye B. Kaan 60 saniye
C. Ozan 60 saniye D. Kaan 120 saniye

12.



Yukarıdaki birinci saat sabah saatlerini, ikinci saat ise öğleden sonrayı göstermektedir. Hafta içi her gün yukarıdaki iki saat arasındaki zaman kadar çalışan bir işçi haftada kaç saat kaç dakika çalışmaktadır?

- A. 50 sa. 45 dk. B. 51 sa. 15 dk.
C. 52 sa. 15 dk. D. 52 sa. 45 dk.

13. 13.58 ve 14.05 saatleri arasında kaç saniye fark vardır?

- A. 360 B. 420 C. 480 D. 540