

1. Aşağıdaki yılların hangisinde şubat ayı 29 gündür?


- A. 1992 B. 2003 C. 2008 D. 2018


2. Ali'nin yaşadığı şehirde güneş, Mehmet'in yaşadığı şehirden 50 dakika geç doğmaktadır.


Buna göre Ali'nin yaşadığı şehirde saat 08.00 iken Mehmet'in yaşadığı şehirde saat kaçtır?


- A. 06.50 B. 07.10 C. 07.50 D. 08.50

3. Hangi öğrencinin verdiği bilgi yanlıştır?

A.  $3 \frac{2}{4}$ saat = 210 dakika

B.  $\frac{10}{20}$ saat = 30 dakika

C.  $2 \frac{2}{4}$ dk. = 150 saniye

D.  $4 \frac{2}{6}$ gün = 118 saat

4.



500 m

60 m

Yukarıda tavşan ve kaplumbağanın 30 dakikada kattıkları yol gösterilmiştir. Buna göre aynı anda yola başladıklarından 5 saat sonra tavşan ile kaplumbağa arasında fark kaç m olur?

- A. 4400 m B. 4600 m
C. 4900 m D. 5200 m

serherfoca.net

5. Serhan, bir günün altıda birinin 5 dakika fazlasını kütüphanede geçirdikten sonra saatin 18.30 olduğunu görmüştür. Serhan'ın kütüphaneye geldiği saat aşağıdakilerden hangisidir?

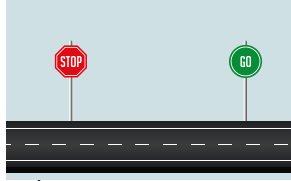


6. Bir otobüs durağında 30 dakikada bir sefer yapılmaktadır. İlk sefer 05.30'da yapıldığında göre 9. sefer saat kaçta yapılacaktır?

- A. 08.30 B. 09.30
C. 10.30 D. 11.00


SH ZAMANI ÖLÇME - 3

7. Saat 06.20'de yola çıkan bir araç 100 km hızla 6 saatte gideceği yere varmıştır. Otobüs 120 km hızla gitseydi gideceği yere saat kaçta varmış olacaktı?



- A. 10.20 B. 11.20 C. 12.20 D. 13.20

8. Yandaki saatten 6 saat 40 dakika 120 saniye sonrasında aşağıdaki öğrencilerden hangisi doğru söylemiştir?



- A. 07.30 B. 07.50
C. 08.30 D. 08.32

9. Başlangıç
11.45 → 2 saat 20 dakika → ●
Bitiş
□ ← 1800 sn. ← ●
+20 dk.

Yukarıda Sedat'ın bir etkinliğe ayırdığı süre verilmiştir. Sedat'ın etkinliği bitirdiği zaman saat kaç göstermektedir?

- A. 14.45 B. 14.55
C. 15.05 D. 15.15

10. Bir koşu yarışmasında İrfan ve Mehmet ilk ikide yer almışlardır. İrfan yarışı 1200 saniyede tamamlamıştır. Mehmet ise dörtte bir saatte tamamlamıştır. Buna göre İrfan ve Mehmet'in yarışmayı bitirme sürelerinin toplamı hangi seçenekte doğru verilmiştir?




- A. Çeyrek saat
B. Yarım saat
C. Yarım saatten 5 dakika eksik
D. Yarım saatten 5 dakika fazla

11. Üniversite okuyan Emir 3 ayda bir memleketine gitmektedir. Okul başladığında ilk kez 25 Ekim'de memleketine giden Emir'in 3. kez memleketine gittiğinde aşağıdaki tarihlerden hangisi olur?

- A. 25 Mart B. 25 Nisan
C. 25 Aralık D. 25 Ocak

12.



Yukarıdaki çiçeğin hangi yaprakları aynı zamanı göstermektedir?

- A. B. C. D.