

# SH ZAMANI ÖLÇME - 3

1.



17.25      16.50      21.00

Yukarıdaki saatler aynı zamanı gösterecek şekilde eşleştirildiğinde doğru eşleştirme aşağıdakilerden hangisi olur?



2. Cem'in saati, saatte 2 dakika geri kalmaktadır. Buna göre, Cem'in saati 2 günde ne kadar geri kalmaktadır?

- A. 1 saat 36 dakika  
B. 2 saat 24 dakika  
C. 2 saat 15 dakika

3.



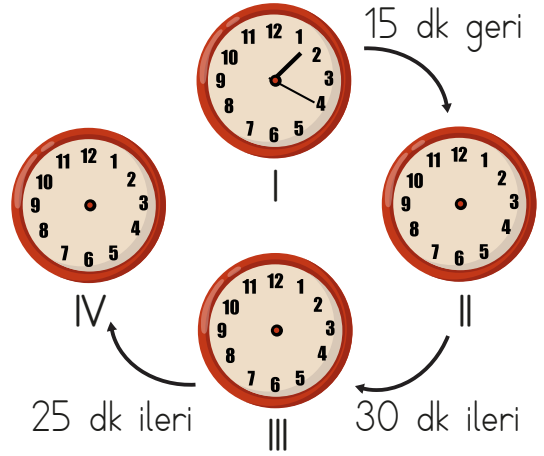
Yukarıdaki saatler bir sınavın başlangıç ve bitiş saatlerini göstermektedir. Buna göre, sınav ne kadar sürmüştür?

- A. 2 saat 25 dakika  
B. 2 saat 15 dakika  
C. 2 saat 30 dakika

4. Akrep 4 ile 6 arasında, yelkovan ise 6'nın üstünde ise saat kaç olamaz?

- A. 16.30      B. 17.30  
C. 18.30

5.



Yukarıdaki saatler I numaralı saatten başlanarak belirtilen zamanlara kadar ayarlanacaktır.

Buna göre ayarlamalardan sonra IV numaralı saat kaç gösterir?

- A. 13.50      B. 14.00      C. 14.10

6.



17.30      01.25      21.45      19.20

Yukarıdaki saatler belirttiği zamanlar ile eşleştirildiğinde hangisi açıkta kalır?

- A. 17.30      B. 19.20      C. 01.25

7.  $\{4 \text{ mevsim}\}$   $\{52 \text{ hafta}\}$   $\{300 \text{ saat}\}$   
 $\{150 \text{ gün}\}$   $\{12 \text{ ay}\}$   
 $\{365 \text{ gün } 6 \text{ saat}\}$

Yukarıda verilenlerden kaç tanesi bir yılı belirtir?

- A.  $\{2\}$  B.  $\{3\}$  C.  $\{4\}$

8. Buse 30 dakikalık zamanı ölçen kum saatini 3 kez, İrem 45 dakikalık zamanı ölçen kum saatini 2 kez kullanarak ödevini tamamladı.

Yukarıda verilen bilgiye göre hangisi yanlıştır?

- A. Buse 90 dakika ödev yapmıştır.  
 B. İrem'in ödevini bitirmesi bir buçuk saat sürmüştür.  
 C. İkisinin ödevleri bitirme süresi arasındaki fark 25 dakikadır.

9.

$$8 \times 30 = 240$$




Yukarıdaki işlem, aşağıdaki sorulardan hangisinin cevabı olabilir?

- A. 30 mevsim kaç aydır?  
 B. 8 ay kaç gündür?  
 C. Saat 8'de koşuya başlayan Emir kaç saat sonra koşusunu bitirir?

10.

Faaliyetler	Başlama Saati	Bitiş Saati
Kitap okuma	11.30	12.45
Ödev yapma	15.15	17.00
Oyun oynama	18.00	19.20

Bilgenin pazar günü yaptığı faaliyetlerden bazıları yukarıdaki tabloda verilmiştir. Buna göre aşağıdaki verilen saatlerde yapılan faaliyetlerin hangisi yanlıştır verilmiştir?

- A.  Kitap okuma  
 B.  Ödev yapma  
 C.  Oyun oynama

11. Semih, yandaki saate öğleden sonra bakıp televizyon izlemeye başlamıştır. Semih, televizyon izlemeyi 1 saat 15 dakikada bitirmiştir. Semih'in televizyon izlemeyi bitirdiği zaman aşağıdakilerden hangisidir?



- A.  $\{14.50\}$  B.  $\{06.50\}$  C.  $\{18.50\}$

12.

- 17.15 • • On bire on var  
 19.45 • • Sekize çeyrek var.  
 22.50 • • Beşi çeyrek geçiyor.

Yukarıda verilen dijital saatlerle okunuşları hangi seçenekte doğru eşleştirilmiştir?

- A.   
 B.   
 C. 