

1.



2 TL



4 TL

3 silgi ve 4 kalem alırsak kaç lira öderiz?

A. 28      B. 22      C. 48

2.

Eşitlik	Değerlendirme
$6 \times 4 = 24$	
$5 \times 6 = 35$	
$8 \times 5 = 40$	

Yukarıdaki eşitlikler değerlendirilirken doğru olanlar için 😊, yanlış olanlar için ☹️ sembolü kullanılacaktır. Buna göre aşağıdaki sıralamalardan hangisi doğrudur?

A. 😊 ☹️ ☹️      B. ☹️ ☹️ ☹️      C. 😊 ☹️ ☹️

3.

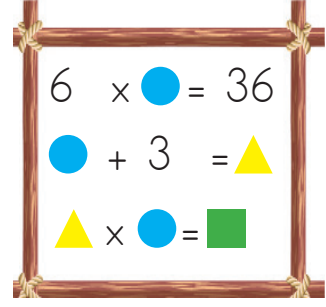


Kumbarama her gün 4 lira atıyorum.

Emre 9 günde kaç lira para biriktirir?

A. 36      B. 30      C. 32


4.



Yukarıdaki işlemlere göre ■ yerine hangi sayı yazılmalıdır?

A. 64      B. 52      C. 54

5.



4 katlı bir binanın her katında 2 daire, her dairede 6 pencere varsa binada kaç pencere vardır?

A. 42      B. 48      C. 56

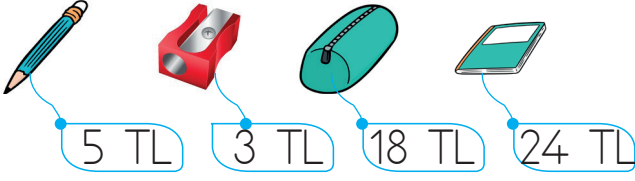
6.



2 kiloluk konservelerden 8 tane, 4 kiloluk konservelerden 6 tane satan bakkal kaç kilo konserve satmıştır?

A. 40      B. 33      C. 34

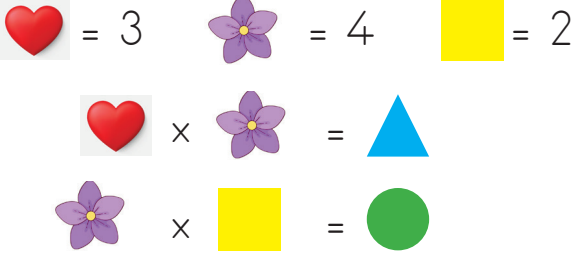
7.





Yukarıda fiyatı verilen ürünlerle ilgili aşağıdaki ifadelerden hangisi yanlıştır?

- A. Defterin fiyatı, kalem ve açacak fiyatının toplamının 3 katıdır.  
 B. Kalemliğin fiyatı, kalemin fiyatının 3 katından 3 fazladır.  
 C. 4 kalem 2 açacak 29 lira eder.

8.



Yukarıda verilenlere göre  +  işleminin sonucu kaçtır?

- A. 20      B. 18      C. 16

9. Eda'nın 9 lirası vardır. Ablasının parası Eda'nın parasının 3 katı olduğuna göre ikisinin toplam kaç lirası vardır?

- A. 32      B. 36      C. 44

10.



Ayşe hafta içi günlük 6, hafta sonları da günlük 8 soru çözdüğüne göre 1 haftada kaç soru çözmüştür?

- A. 44      B. 49      C. 46

11.



Uğur

Ben 9 yaşındayım, babamın yaşı benim yaşımdan 3 katından 5 fazladır.

Yukarıdaki bilgilere göre Uğur ve babasının yaşları farkı kaçtır?

- A. 22      B. 23      C. 24

12. Bir hayvanat bahçesinde 8 tavuk, 3 koyun, 5 at vardır. Bu hayvanların ayak sayıları toplamı kaçtır?

- A. 48      B. 45      C. 36