


Aşağıdaki resmi inceleyelim. İstenen varlıkların sayılarını yanlarındaki kutucuklara yazalım.




Aşağıdaki varlıkların kaç tane olduklarını işaretleyelim.



12

13

14



5

6


7



2

3


4



10

11


12



18

19

20

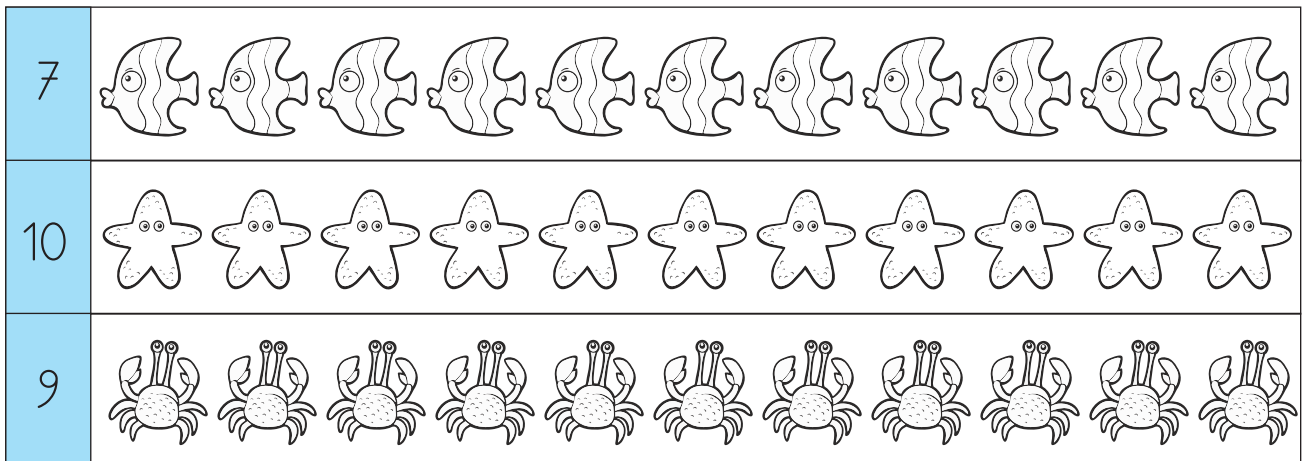


8

7

6

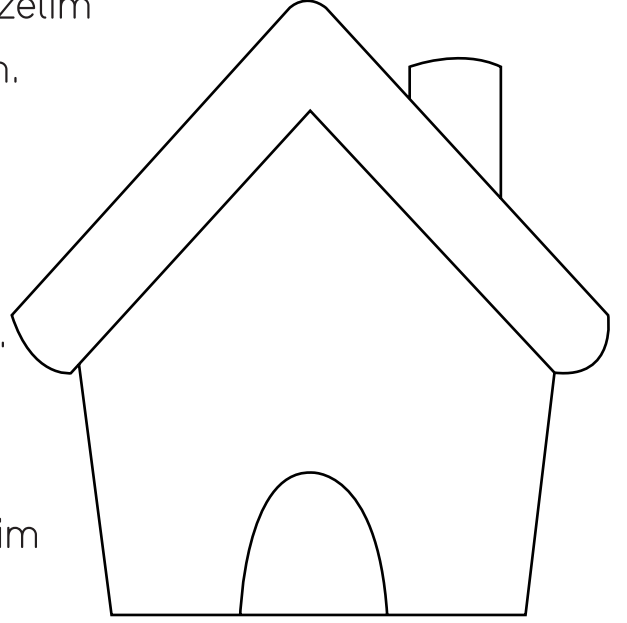
Başta verilen sayı kadar varlık boyayalım.





Aşağıdaki resmi yönergelere uygun tamamlayalım.

- Evin kapısına 6 tane yuvarlak çizelim ve yuvarlakları maviye boyayalım.
- Eve 4 tane pencere çizelim ve pencereleri sarıya boyayalım.
- Evin duvarına 14 tane elma çizelim ve elmaları yeşil yapalım.
- Evin bacasına 16 tane nokta koyalım.
- Evin çatısına 12 tane bulut çizelim ve bulutları turuncu yapalım.



Aşağıda okunuşları verilen sayıların yazılışlarını yazalım.

On üç

On beş

Altı

On dokuz

Sekiz

On bir

Yedi

Bir

On dört

İki

Beş

On iki



Aşağıda yazılışları verilen sayıların okunuşlarını yazalım.

17

5

16

9

12

20

8

19

14