


1.



Umut'un resimdeki akvaryumu daha çabuk doldurabilmesi için aşağıdakilerden hangisini kullanması gerekir?



2. Efe elindeki bardağı yarısına kadar suyla doldurdu.

Buna göre Efe'nin suyla doldurduğu bardak aşağıdakilerden hangisidir?



3. Hangisinin tamamı doludur?



4.



— Yağ



— Süt



— Zeytin

Yukarıdakilerden hangisi sıvı madde değildir?



sonerhoca.net


5.



Yandaki bardakta bulunan sıvıyı, aşağıdaki hangi kaba boşaltırsak kap taşar?



6. Aşağıdakilerden hangisi sıvıların miktarını ölçmek için **kullanılmaz**?



7. Hangi şişede daha çok portakal suyu vardır?



8. Aşağıdaki ifadelerden hangisi yanlıştır?

A. Bardak, sürahiden daha az sıvı alır.

B. Çay kaşığı, çay bardağı ile eşit sıvı alır.

C. Su şişesi, damacanadan daha az sıvı alır.




Yukarıda kaç tane kabın yarısı doludur?

A. 5

B. 3

C. 4

10. Yandaki kovayı aşağıdakilerden hangisi ile daha uzun sürede doldururuz?



11. Aşağıdaki sıvı ölçme araçları gruplarından hangileri daha fazla sıvı alır?

A. kova - damacana - sürahi

B. kaşık - tencere - bardak

C. kepçe - şişe - bardak

12. 1 yemek kaşığı yağ

1 çay kaşığı şurup

1 kepçe çorba

Hangi şekilde belirtilen ifadedeki sıvı miktarı diğerlerinden fazladır?

A.

B.

C.