







SH PARALARIMIZ - 1

1.  
- Ela'nın kumbarasından çıkan paraların toplamı kaç liradır?
- A. 16 B. 17 C. 18

2. Aşağıdaki paralardan hangisinin değeri daha azdır?
- A.  B.  C. 





3. Aşağıdaki görsellerden hangisi daha ucuzdur?
- A.  5 TL
- B.  7 TL
- C.  9 TL


4. 
- Erdem, yukarıdaki parayla aşağıdakilerden hangisini alamaz?

- A.  12 TL
- B.  15 TL
- C.  17 TL

5. 

- Yukarıda verilen para miktarının toplamı kaçtır?
- A. 11 TL B. 13 TL C. 12 TL

6. Yandaki para ile aşağıdakilerden hangisini alabiliriz?
- A.  
- B. 
- C. 



7. 8 ve 9. soruları yukarıdaki görsele göre cevaplayalım.

7. En pahalı ürün aşağıdakilerden hangisidir?

A. 

B. 

C. 

8. En ucuz ürün aşağıdakilerden hangisidir?

A. 

B. 

C. 

9. Ürünlerin tamamını alan bir kişinin toplam kaç lira ödemesi gerekir?

A. 16 TL B. 20 TL C. 18 TL

10.



Ceren resimdeki para ile aşağıdaki ürünlerden hangisini satın alamaz?

A. Çamaşır makinesi

B. Meyve suyu

C. Dondurma

11.



Yukarıdaki paraların toplamı kaç liradır?


A. 6 TL B. 7 TL C. 8 TL

12.

10 TL	5 TL
1 TL	50 kr

Değeri verilen paralardan maddeni olanların yazıldığı kutucuklar pembeye boyanırsa aşağıdaki şekillerden hangisi oluşur?

A. 

B. 

C. 