


# SH PARALARIMIZ - 2

1.






Yukarıdaki botun fiyatı terliğin fiyatından kaç lira daha fazladır?

- A. 8 B. 7 C. 9

2.






Kelmal, yukarıdaki parayla aşağıdakilerden hangisini alamaz?

- A.  15 TL  
B.  10 TL  
C.  20 TL

3.



Verilen para ile aşağıdakilerden hangisini alamayız?

- A.   
B.   
C. 

4.



Aşağıdakilerden hangisi yukarıda verilen paraların toplamından daha azdır?

- A.   
B. 

5.



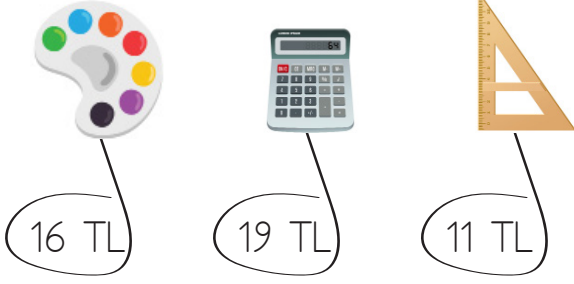
Yukarıda verilen para miktarının toplamı kaçtır?

- A. 14 TL B. 12 TL C. 13 TL

6. Yandaki paraların toplamı kaç liradır?



- A. 6 TL B. 8 TL C. 7 TL



7. 8 ve 9. soruları yukarıdaki görsele göre cevaplayalım.

7. 2 tane 5 TL, 1 tane 1 TL ödeyen Suna hangisini almıştır?



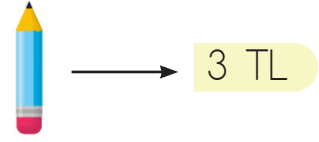
8. 20 lira ödeyip 1 cetvel alan Ali kaç lira para üstü alır?

A. 10 TL B. 9 TL C. 11 TL

9. Erhan'ın 10 lirası vardır. Hesap makinesi alabilmesi için ne kadar paraya daha ihtiyacı vardır?

A. 5 TL B. 7 TL C. 9 TL

10.



Yukarıdaki fiyatı verilen kalem-den 4 tane alırsak kaç lira ödememiz gerekir?

A. 12 TL B. 5 TL C. 16 TL

sonerhoca.net

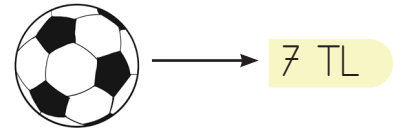
11.



Yukarıdaki paraların 16 lira olabilmesi için kaç lira daha eklenmesi gerekir?

A. 5 TL B. 6 TL C. 7 TL

12.



Yukarıdaki fiyatı verilen toptan 2 tane alırsak kaç lira ödeme-miz gerekir?

A. 12 TL B. 14 TL C. 16 TL