




1. "Irmak" sözcüğü hangi cümlede özel ad olarak kullanılmıştır?

- A. Köyümüzdeki ırmak çok güzeldir.
B. Irmak, uyumadan önce süt içti.
C. Irmak kenarında piknik yapacağız.

2.

kedi	az	inek
gel	kitap	ve

Tabloda ad türündeki sözcükler boyanırsa tablonun görüntüsü nasıl olur?

- A.  B. 
C. 

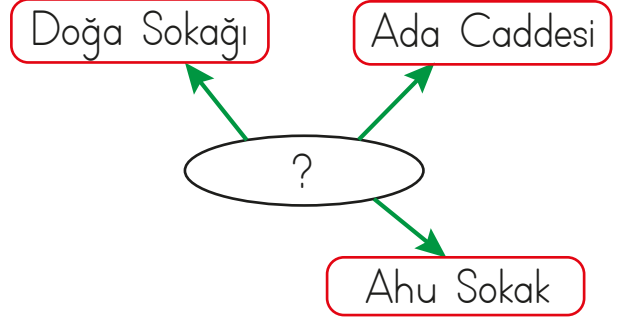
3.

ordu	ordular
ağaç	ağaçlar

Bu örüntüde boş bırakılan yerlere sırasıyla hangi sözcükler gelmelidir?

- A. sayfalar - sayfa
B. gül - güller
C. sınıf - okul

4.



Yukarıdaki şemada "?" yerine aşağıdakilerden hangisi yazılabilir?


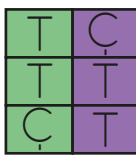

- A. Çoğul Ad
B. Özel Ad
C. Tür Adı

5.

Aşağıdaki isimlerden tekil olanların yanındaki kutucuğa "T" çoğul olanların "Ç" yazılacaktır.

elma		narlar	
bere		çilek	
zarflar		kiler	

Buna göre renkli kutuların son görünümünü nasıl olur?

- A.  B.  C. 

6.

	Özel Ad	Tür Adı
■	Asya	Hayvan
●	Van	Yol
★	Kalem	Soner

Yukarıdaki tabloda hangi satırdaki adlar yanlış gruplanmıştır?

- A. ★ B. ● C. ■

7.

1.	İnsan Adı	Merve
2.	Şehir Adı	Adana
3.	Eşya Adı	Makas
4.	Hayvan Adı	Aslan
5.	Bitki Adı	Sürahi

Tabloda numaralandırılarak verilen eşleştirmelerden hangisi yanlıştır?

- A. 5. B. 3. C. 1.

8. Aşağıdaki tabloda isimlerin özel ve cins olarak sınıflandırılması " ✓ " işaretiyle yapılmıştır.

	Özel Ad	Cins Ad
Ceket		✓
Yengeç	✓	
Ecem	✓	

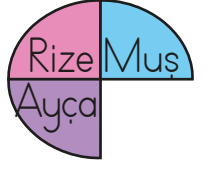
Buna göre sözcüklerin hangisinde yanlıştır bir işaretleme yapılmıştır?

- A. Ceket B. Yengeç
C. Ecem

9. Aşağıdaki özel isimlere getiren eklerden hangisi yanlıştır ayrılmıştır?

- A. Ankara' nın
B. Meryem' in
C. Sivas' lı

10. Yandaki özel ad çemberindeki eksik parça hangisi olabilir?



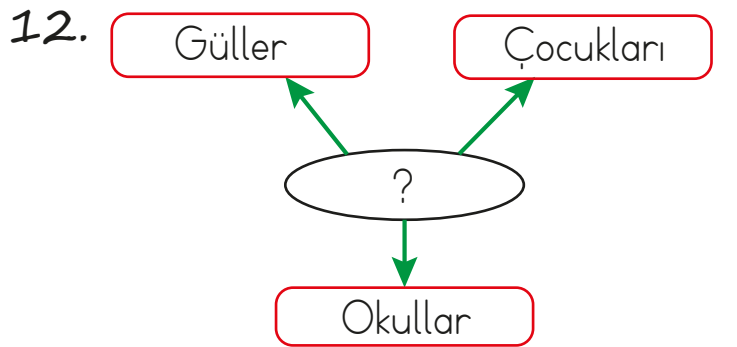
- A. Anne B. Arkadaş
C. İngilizce

11.

▲	Emre, Can ile Anıtkabir'e gitti.
●	İstanbul, Türkiye'nin en kalabalık şehridir.
■	Bu arabalar Bursa'da üretiliyor.

Yukarıdaki tabloda verilen cümlelerin hangisinde özel ad sayısı fazladır?

- A. ▲ B. ● C. ■



Yukarıdaki şemada "?" yerine hangisi yazılmalıdır?

- A. Özel adlar
B. Tekil adlar
C. Çoğul adlar