




1.



Yukarıdaki kaplardan kaç tanesi 1 litreden fazla sıvı alır?

A. 1      B. 2      C. 3

2. Aşağıdaki kaplardan hangisinin içindeki su yarım litreden azdır?




3. ● Şeker      ● Süt      ● Tuz  
● Sıvı yağ      ● Kek      ● Ayrın

Yukarıdaki verilen maddelerin kaç tanesi litre ile ölçülür?

A. 3      B. 4      C. 5

4.



Esmâ, pastanesinde çilek suyu ile kek yapmaktadır. Yukarıdaki yarım litrelik kapları su ile karıştırarak kekin aromasını hazırlamaktadır. Her çeyrek litreye 3 litre su koyduğuna göre 4 yarım litreye toplam kaç litre su koymaktadır?

A. 12      B. 16      C. 24

sonerhoca.net

5.



Yukarıda içinde çeyrek litre bulunan sütlerin toplamı kaç litredir?

A. 2 L      B. 8 L      C. 16 L

6. Her gün çeyrek litre vişne suyu içen Erkan, 10 litre vişne suyunu kaç günde tüketir?

A. 40 gün      B. 20 gün      C. 5 gün

7.



Bir büfede günde 100 bardak limonata satılmıştır.

4 bardak limonata bir litre olduğuna göre günde kaç litre limonata satılmıştır?

A. 45      B. 30      C. 25

8.



Kardeşim günde bir buçuk litre süt içmektedir. İki haftada kaç litre süt içer?

A. 28      B. 21      C. 35

9. Bir iş yerinde günlük olarak yanda verilen damacandan 5 tane tüketilmektedir.



Buna göre bu iş yerinde 1 haftada kaç litre su tüketilir?

A. 610      B. 665      C. 750

10. Didem 6 L limonata yaptı. Limonatanın 8 çeyrek litresini tüketti. Geriye kaç litre limonata kaldı?

A. 4      B. 3      C. 2

11.



Haftada 28 çeyrek litre ayran tüketiyorum.

Mine her gün eşit miktarda ayran tükettiğine göre 3 günde kaç yarım litre ayran tüketmiştir?

A. 3      B. 6      C. 12

12. 20 litrelik kolonya çeyrek litrelik şişelere doldurulacaktır.

Buna göre kaç şişeye ihtiyaç vardır?

A. 5      B. 40      C. 80