

1. Arda ile Sinan parka gittiklerinde salıncakların boş olduğunu gördüler. Heyecanla oraya doğru koştular. Salıncakla işleri bittiğinde oradan uzaklaşıp diğer çocukların yanına gittiler.

Bu paragrafta kaç tane çoğul ad kullanılmıştır?

- A. 1 B. 2 C. 3

2. Aşağıdaki isimlerden tekil olanların yanındaki kutucuğa "T" çoğul olanlarınkine "Ç" yazılacaktır.

incir	■	kalemler	■
kiler	■	silgi	■
denizler	■	fular	■

Buna göre renkli kutuların son görünümü nasıl olur?

- A.

T	T
Ç	Ç
Ç	Ç

 B.

T	Ç
T	T
Ç	T

 C.

T	T
Ç	Ç
T	Ç

3.

Sedat	Üzümler	Ordu
◆ özel ad	çoğul ad	topluluk adı
● özel ad	tekil ad	topluluk adı
★ tür adı	çoğul ad	çoğul ad

Tablodaki hangi sütunda adların özellikleri doğru verilmiştir?

- A. ◆ B. ● C. ★

4.

Derman	Adana	Sinem
Cezve	Süpürge	Yelek

Yukarıdaki tablodan özel isimlerin bulunduğu kutular çıkarıldığında tablonun yeni görünümü nasıl olur?

- A.

■	■	■
---	---	---

 B.

■	■	■
■	■	■

 C.

■	■	■
■	■	■

5.

■	Deniz	baya dalgalıydı.
■	Deniz	kitap okuyor.

Tümcelerdeki altı çizili sözcüklerden özel ad alanlara Ö, tür adı alanlara T yazılırsa hangi seçenekteki yazım doğru olur?

- A.

Ö	Ö
Ö	Ö

 B.

Ö	Ö
T	T




 C.

T	T
Ö	Ö

6. Eren, odada koşunca annesi kızdı. Yukarıdaki tümcede toplam kaç tür adı kullanılmıştır?

- A. 1 B. 3 C. 2

7. Aşağıdaki öğrencilerden hangisi, ifadesinde çoğul ad kullanmıştır?

- A.  En sevdiğim ceketı yarın giyeceğim.
- B.  Ağaçların arasında kuş civıltıları duyuldu.
- C.  Bir deste kalemi kalemlığıne koydu.

8. Aşağıdaki cümlelerin hangisinde topluluk ismi kullanılmıştır?

- A. Halk, bu haber karşısında çok heyecanlandı.
- B. Kazlar bir anda uçmaya başladı.
- C. Sezer eve yürüyerek gitti.

9.

deniz	şapka
kutular	sazlar


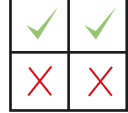
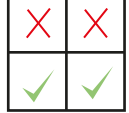
Tablodaki isimlerden çoğul olanların bulunduğu kutucuklar boyandığında tablonun son görünümü nasıl olur?

- A. 
- B. 
- C. 

10.

Gazi İlkokulu	Toros Dağları
Kırmızı sehpa	İnce bardak



Tablodaki sözcüklerden özel ad olanlara ✓, tür adı olanlara ✗ konulursa son görünümü nasıl olur?

- A. 
- B. 
- C. 

11.

	Tekil Ad	Çoğul Ad	Özel Ad
Zehra			
Balık			
Çiçekler			
Adana			

Tablodaki isimlerin özellikleri, ilgili kutucuklar işaretlenerek belirtildiğinde kutucukların son görünümü nasıl olur?

- A. 
- B. 
- C. 