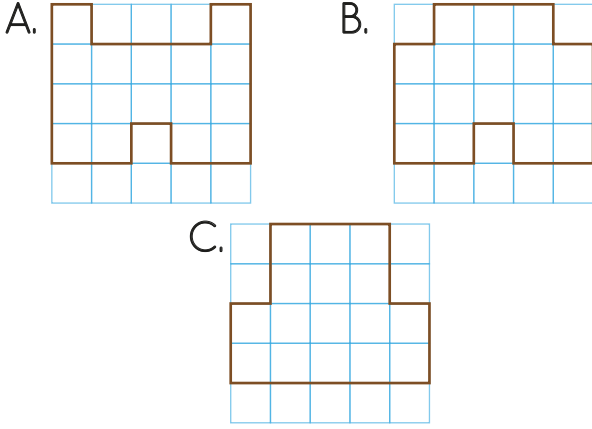
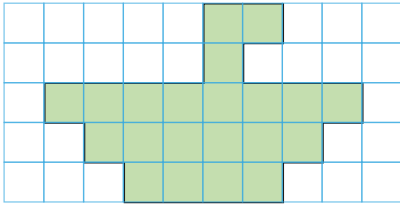




7. Hangi kareli kağıttaki şeklin çevresinin uzunluğu diğerlerinden azdır?



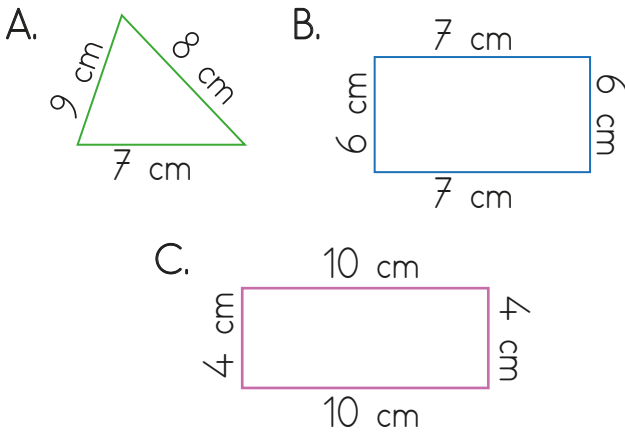
8.



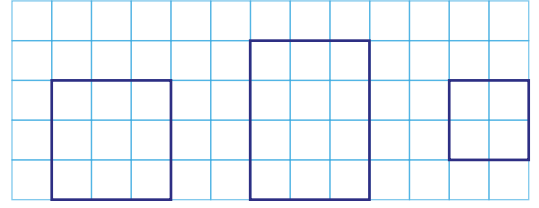
Yukarıda modellenen şeklin çevresi kaç birimdir?

A. 26      B. 28      C. 30

9. Aşağıdaki şekillerden hangisinin çevre uzunluğu 24 cm'dir?



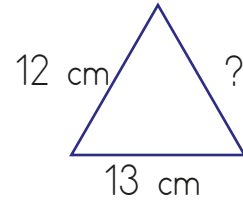
10.



Yukarıda kareli kağıt üzerine çizilmiş olan geometrik şekillerin çevreleri toplam kaç birimdir?

A. 26      B. 28      C. 34

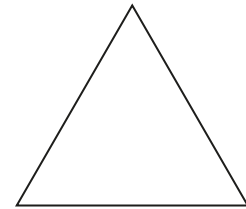
11.



Üçgenin çevresi 39 cm'dir. Verilen kenar uzunluklarından yola çıkılırsa "?" ile gösterilen kenarın uzunluğu kaç cm olur?

A. 14      B. 12      C. 10

12.



Yukarıdaki şekil eşkenar bir üçgendir. Üçgenin bir kenarı 4 cm olduğuna göre çevresi kaç cm'ir?

A. 8      B. 12      C. 16