


1. Aşağıdakilerden hangisinin köşe sayısı diğerlerinden farklıdır?



2.

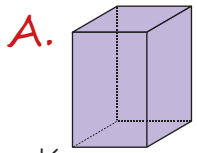


Silindirin, koninin ve kürenin yoktur.

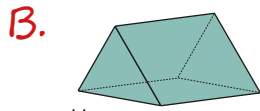
Yukarıdaki cümlede noktalı yere aşağıdakilerden hangisi yazılamaz?

A. köşesi B. ayrıtı C. yüzü

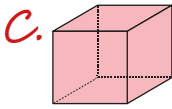
3. Aşağıdaki geometrik cisimlerden hangisinin 4 dikdörtgen, 2 karesel yüzü vardır?



Kare prizma

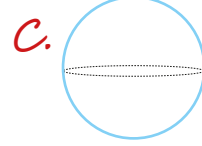
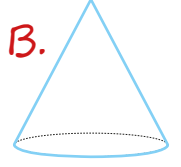
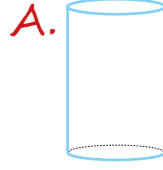


Üçgen prizma

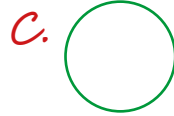


Küp

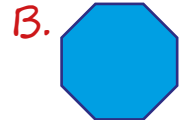
4. Aşağıdakilerden hangisinin dairesel olan iki yüzü vardır?



5. Aşağıdakilerden hangisinin köşegeni vardır?



6. Aşağıdakilerden hangisi beşgendir?



7. İbrahim defterine kare çizmek istiyor. Buna göre İbrahim bu iş için hangisini kullanamaz?

- A. Kare prizma
- B. Silindir
- C. Küp

8.

?

Benim üç yüzüm var.
Beni kullanarak çember çizebilirsiniz.

Yukarıda, hakkında bilgiler veren geometrik cisim hangisidir?

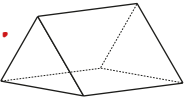

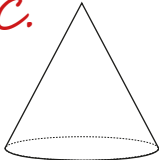
- A. Silindir
- B. Koni
- C. Küre

9.

?

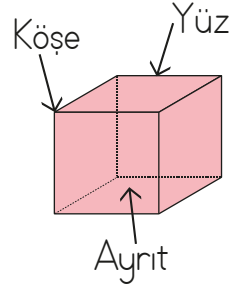
Köşem ve ayrıtım yoktur.

Özellikleri verilen geometrik cisim aşağıdakilerden hangisi olamaz?




- A. 
- B. 
- C. 

10. Yandaki geometrik cismin hangi kısmı doğru gösterilmiştir?



- A. Yüz
- B. Köşe
- C. Ayrıt



11. Aşağıdaki geometrik şekillerden hangisinin köşegeni doğru çizilmiştir?

- A. 
- B. 
- C. 

12. Aşağıdaki geometrik şekillerden hangisinin kenar sayısı diğerlerinden farklıdır?

- A. 
- B. 
- C. 