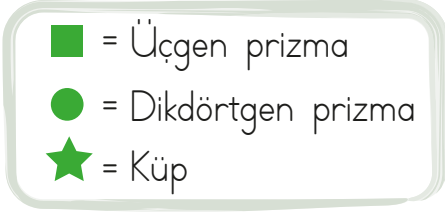


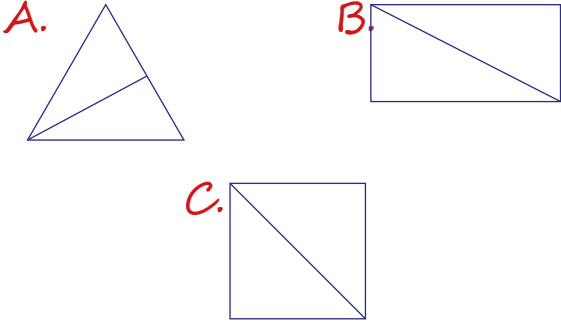
1.



Yukarıdaki geometrik cisimlerden hangisini kullanarak kare çizilebilir?

- A. ■ B. ● C. ★

2. Aşağıdaki şekillerden hangisinin köşegeni yanlış çizilmiştir?



3. Asya, yandaki noktaları kullanarak üçgen oluşturacaktır. Buna göre Asya aşağıdakilerden hangisini seçerse üçgen oluşturabilir?

- A. .D
B. .E
C. .F

- A. A - B - C B. D - E - F
C. C - D - F

4.



Emir, yukarıdaki kibrit çöplerini kırmadan aşağıdaki geometrik şekillerden hangisini yapamaz?

- A. beşgen B. altıgen
C. dörtgen

5.

- ▶ 4 açısı vardır.
- ▶ 4 köşesi vardır.
- ▶ Tüm kenarları birbirine eşittir.

Yukarıdaki özellikler hangi geometrik şekle aittir?

- A. Dikdörtgen B. Kare C. Üçgen

6.



Geometrik bir şekilde köşegen çizebilmemiz için şeklin en az tane kenarı olmalıdır.

Yukarıdaki ifadenin doğru olabilmesi için noktalı yere aşağıdakilerden hangisi yazılmalıdır?

- A. 4 B. 5 C. 3

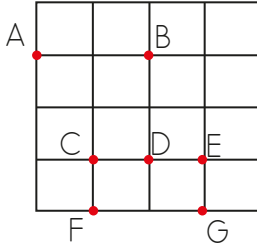
7.



Yukarıdaki geometrik şeklin hangi köşelerini cetvelimizle birleştirirsek köşegen elde ederiz?

- A. K - M B. L - M C. M - N

8. Yandaki şekilde hangi noktaları birleştirerek bir üçgen elde edilebilir?



- A. A - B - C - D
B. C - D - E
C. A - B - C

9.



Kare ve dikdörtgen arasındaki fark hangisinde doğru verilmiştir?

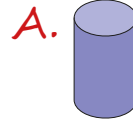
- A. Köşe sayıları
B. Kenar uzunlukları
C. Köşegen sayıları

10. Yandaki cisimle hangi cismin köşe sayıları eşittir?



- A. Dikdörtgenler prizması
B. Üçgen prizma
C. Silindir

11. Aşağıdaki geometrik cisimlerden hangisinin yüz sayısı diğerlerinden fazladır?



12. Aşağıda verilen bilgilerden hangisi yanlıştır?

- A. Küpün 8 köşesi vardır.
B. Üçgen prizmanın 9 yüzü vardır.
C. Silindirin ayrıtı yoktur.