

1.



Yukarıdaki örüntünün kuralı aşağıdakilerden hangisidir?

- A. 2 dikdörtgen, 1 daire, 1 üçgen, 1 kare
 B. 1 dikdörtgen, 1 daire, 1 üçgen, 1 kare
 C. 2 dikdörtgen, 2 kare, 2 üçgen, 1 daire

2.

Örüntünün kuralı 1 üçgen, 2 daire, 1 kare, 1 dikdörtgen.

Kuralı verilen örüntü hangi seçenekte doğru olarak verilmiştir?

- A.
 B.
 C.

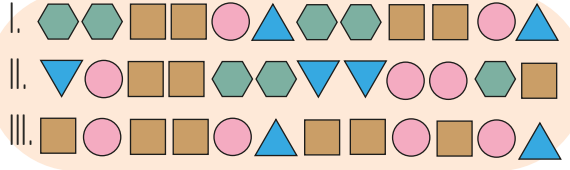
3.



Yukarıdaki örüntünün kuralı hangi seçenekte doğru olarak ifade edilmiştir?

- A. Bir daire, bir üçgen şeklinde tekrar ediyor.
 B. İki üçgen, bir daire şeklinde tekrar ediyor.
 C. İki daire, bir üçgen şeklinde tekrar ediyor.

4.



Tablonun hangi bölümündeki dizilim, bir örüntüye örnek olabilir?

- A. III B. II C. I

5.



Örüntünün tamamlanabilmesi için "?" ile gösterilen yerlere sırasıyla hangi şekiller gelmelidir?

- A. B. C.

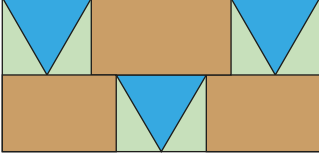
6.



Yukarıdaki şekilde bir örüntü verilmiştir. Örüntüyü bozan şekil hangi seçenekte doğru verilmiştir?

- A. B. C.


7.



Yukarıdaki kaplama örüntüsü hangi geometrik şekillerden oluşmuştur?

- A. Kare - Daire
 B. Üçgen - Dikdörtgen
 C. Üçgen - Kare

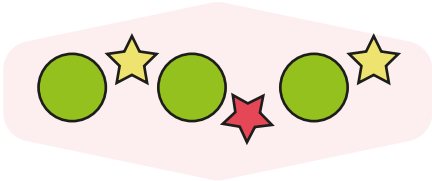
8.



Aşağıdaki örüntülerden hangisinde yukarıdaki şekillerin tamamı kullanılmıştır?

- A.
 B.
 C.

9.



Yukarıdaki örüntünün devamı aşağıdakilerden hangisi gibi olmalıdır?

- A.
 B.
 C.

10.



Yukarıdaki örüntüde "?" olan yere aşağıdakilerden hangisi gelmelidir?

- A.
 B.
 C.

senerfoca.net

11. Aşağıdakilerden hangisi bir örüntü oluşturmaz?

- A.
 B.
 C.

12.



Yukarıdaki örüntü hangisiyle devam ettirilmelidir?

- A.
 B.
 C.