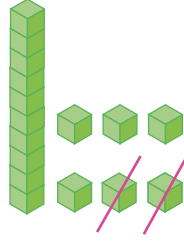



1. Yanda modellenen çıkarma işlemi aşağıdakilerden hangisidir?



- A. $16 - 4$ B. $16 - 2$
C. $14 - 2$

2. 

Yukarıdaki bilyelerin 9 tanesini ayırırsak geriye kaç tane bilye kalır?

- A. 10 B. 11 C. 9

3.  İlkem

19'un 7 eksiği kaçtır?

- A. 10 B. 11 C. 12

- 4.


$$\begin{array}{r} 15 \rightarrow ? \\ - 9 \rightarrow \text{Çıkan} \\ \hline 6 \rightarrow \text{Fark} \end{array}$$

Yukarıda "?" ile gösterilen yere hangisi yazılmalıdır?

- A. Eksilen
B. Toplanan
C. Toplam

5. "20"den çıkarsa sonuç 0 olur" ifadesinde noktalı yere hangi sayı yazılmalıdır?

- A. 20 B. 0 C. 19

6. Adem cebinde bulunan 17  şekerden 5'ini yerse, Adem'in kaç tane şekeri kalır?

- A. 10 B. 14 C. 12

7. "Sekiz'den iki çıkarsa altı kalır."

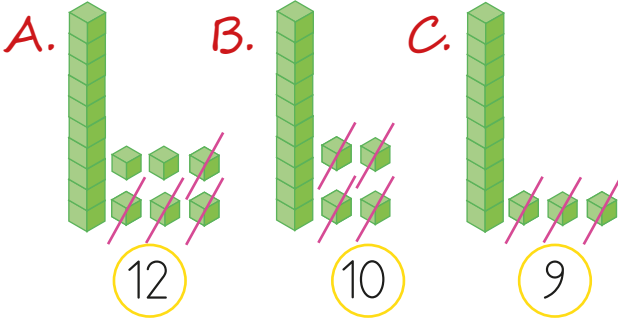
Yukarıda verilen ifadenin çıkarma işlemi ile gösterimi aşağıdakilerden hangisidir?

A. $8 - 2 = 6$

B. $8 - 6 = 2$

C. $6 + 2 = 8$

8. Aşağıda onluk bloklarla yapılan çıkarma işlemlerinden hangisinin sonucu yanlış verilmiştir?



9. 17 dondurmanın 6 tanesi torbadan alınıp buzdolabına konuluyor. Buna göre torbada kaç tane dondurma kalır?



A. 8

B. 11

C. 6

10. Eksilenin 18, çıkanın 8 olduğu bir çıkarma işleminde fark kaçtır?

A. 18

B. 10

C. 8

11. Aziz, 11 silgisinin 3'ünü Deniz'e verdi. Buna göre Aziz'in kaç silgisi kaldı?

A. 8

B. 9

C. 10

12.

$$18 \rightarrow 17 \rightarrow 16 \rightarrow 15$$

Yaren'in zihninden yaptığı çıkarma işlemi aşağıdakilerden hangisidir?

A. $18 - 3 = 15$

B. $18 - 15 = 3$

C. $15 - 3 = 12$