

1. Aşağıdaki ritmik saymalardan hangisi geriye doğru ikişer ritmik saymadır?

- A. 11 - 10 - 9 - 8 - 7
 B. 12 - 10 - 8 - 6 - 4
 C. 4 - 6 - 8 - 10 - 12

2. Aşağıdaki eşitliklerden hangisi yanlıştır?

- A. 1 onluk + 3 birlik = 13
 B. 1 onluk + 0 birlik = 1
 C. 1 onluk + 7 birlik = 17

3. 10'dan başlayıp onar ritmik sayarken aşağıdaki sayılardan hangisini söylemeyiz?

- A. 15 B. 20 C. 30

4.



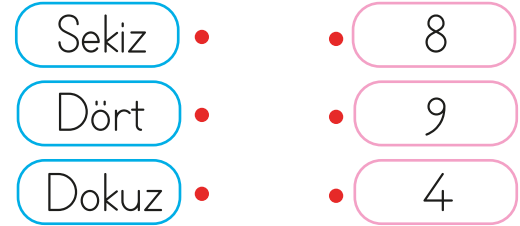
Hesap makinesinde yazılı olan sayının okunuşu aşağıdakilerden hangisidir?

- A. On sekiz
 B. On dokuz
 C. On dört

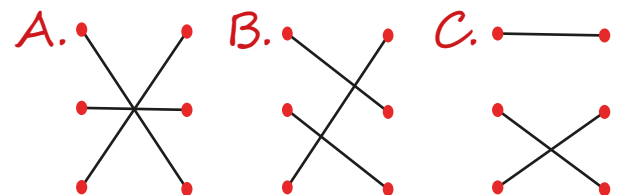
5. Aşağıdakilerden hangisinin nesne sayısı 10'dan çoktur?



6.



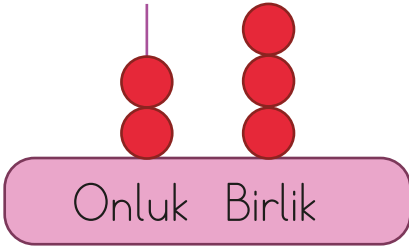
Yukarıda okunuşu verilen rakamları eşleştirdiğimizde hangi seçeneğe ulaşırız?



7. Aşağıdaki ritmik saymalardan hangisinde hata yapılmamıştır?

- A. 8 - 7 - 5 - 4 - 3
 B. 4 - 6 - 8 - 10 - 12
 C. 5 - 10 - 15 - 20 - 30


8.



Yukarıdaki şekilde modellenen sayı kaçtır?

- A. 23 B. 13 C. 32

9. Görselde onluk taban blokları ile modellenen sayının okunuşu aşağıdakilerden hangisidir?



- A. On yedi
 B. On altı
 C. On beş




10. $20 - 18 - 16 - ?$

Ekin, 20'den geriye doğru ikişer ritmik sayma yapmaktadır.

Buna göre Ekin "?" yerine aşağıdaki sayılardan hangisini yazmalıdır?

- A. 12 B. 14 C. 16

11. Yandaki varlıkların sayısı ile aşağıda verilen varlıklardan hangisinin sayısı eşittir?



12.



Sincaplarla cevizlerin bire bir eşleştirilebilmesi için kaç ceviz daha ihtiyaç vardır?

- A. 1 B. 2 C. 3