



1. Yandaki basketbol topları kaç tanedir?



- A. 8 B. 9 C. 10

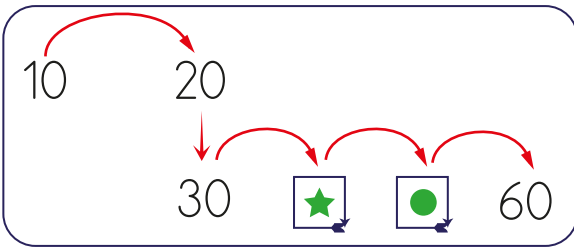
2. Varlıklar ve sayılarıyla ilgili eşleştirmelerden hangisi yanlıştır?

A.  → 9

B.  → 18

C.  → 6


3.



Yukarıdaki onar ritmik saymada ★ ve ● yerine hangi sayılar gelmelidir?

- A. $\frac{\star}{40}$ $\frac{\bullet}{50}$
 B. $\frac{\star}{35}$ $\frac{\bullet}{45}$
 C. $\frac{\star}{45}$ $\frac{\bullet}{50}$

4.



Defterler ve cetveller ile ilgili olarak hangisi söylenemez?

- A. Cetveller defterlerden 2 fazladır.
 B. Defterler cetvellerden 2 fazladır.
 C. Defterlerden 2 tanesi kayboldursa 8 defter kalır.

5.

20'den geriye birer ritmik sayarken 10'dan sonra hangi sayıyı söyleriz?

- A. 11 B. 12 C. 9

6.


Beşer ritmik sayma hangi seçenekte doğru yapılmıştır?

- A. $\boxed{5 \ 11 \ 15 \ 20 \ 24 \ 30 \ 35}$
 B. $\boxed{5 \ 10 \ 15 \ 20 \ 25 \ 30 \ 35}$
 C. $\boxed{5 \ 9 \ 15 \ 20 \ 25 \ 29 \ 30}$

7. "20 - 30 - ☆ - ◆ - ◆"

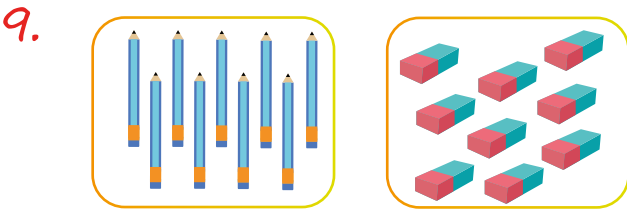
Yukarıdaki ileriye doğru onar ritmik saymada ◆ yerine hangi sayı yazılmalıdır?

- A. 50 B. 60 C. 70



Tabaklarda toplam kaç zeytin vardır?

- A. Otuz beş
B. Kırk beş
C. Elli




Yukarıdaki nesnelere ilgili ifadelerden hangisi doğrudur?

- A. Kalem ve silgi sayıları eşittir.
B. Kalemler silgilerden azdır.
C. Kalemler silgilerden fazladır.

10. Yandaki sayıyı hangi öğrenci onluk ve birliklerine doğru ayırmıştır?

15

- A. 5 onluk
1 birlik
- B. 1 onluk
5 birlik
- C. 1 birlik
5 onluk



Yukarıdaki görsele göre aşağıdaki ifadelerden hangisi doğrudur?

- A. Nar sayısı daha çoktur.
B. Nar ve arı sayısı eşittir.
C. Arı sayısı daha çoktur.