

1.



Balonların sayısını gösteren rakam hangi seçenekte verilmiştir?

A. 7

B. 6

C. 5


2. Aşağıdaki eşleştirmelerden hangisi yanlıştır?

A. 0 = sıfır

B. 19 = on dokuz

C. 14 = bir dört

3.



Şekerleri sayarken söylediğimiz son sayıdan bir sonra gelen sayı hangisidir?

A. 17

B. 18

C. 16

4.



Tabağın dışındaki çileklerin sayısı kaçtır?


A. 4

B. 5


C. 6

5. Hangi grupta hayvanların ayak sayısı 20'dir?

A.



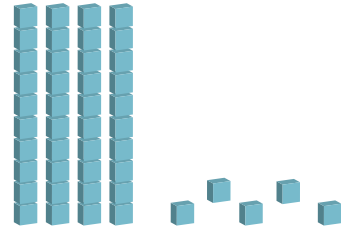
B.



C.



6.



Modelle gösterilen sayı hangisidir?

A. 50

B. 45

C. 40

7. on-yirmi-otuz-kırk-..... 

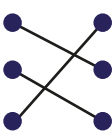
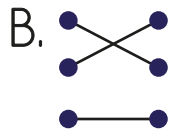
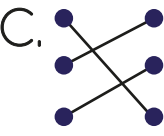
Yukarıdaki sayılar devam ettirildiğinde noktalı yere hangisi yazılmalıdır?

- A. Kırk bir B. Elli
C. Kırk beş

8.


61	•	•	yirmi dokuz
29	•	•	otuz beş
35	•	•	altmış bir


Yukarıdaki sayılarla okunuşları eşleştirilirse şeklin görüntüsü nasıl olur?

- A.  B.  C. 

9. Geriye doğru ikişer ritmik sayma yaparken 12'den sonra söylediğimiz sayı hangisidir?

- A. 14 B. 10 C. 16




10. "10 - 15 - 20 -  - 30"

Yukarıdaki ileriye doğru beşer ritmik saymada  yerine hangi sayı yazılmalıdır?

- A. 21 B. 35 C. 25

11. İlker: Kalemlikte on iki kalem var.

İlker'in söylediği kalemlik hangisi olabilir?

- A.  B. 
C. 

12.       

Yukarıdaki beşer ritmik saymada hangi sayı unutulmuştur?

- A.  B.  C. 