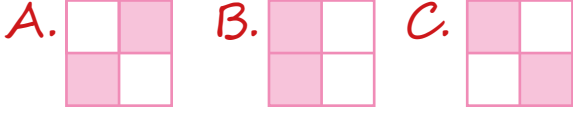
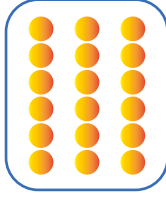


1. Yandaki sayılardan 10'dan küçük olanlar boyandığında aşağıdakilerden hangisi oluşur?


7	12
9	15





2. Yandaki boncuklar onluk ve birliklerine ayrıldığında kaç tane birlik olur?



3. Aşağıdaki ifadelerden hangisi doğrudur?

A.  En büyük rakamımız 10'dur.

B.  İleriye doğru beşer ritmik sayarken 20'den sonra 15 deriz.

C.  Geriye doğru ikişer ritmik sayarken 18'den sonra 16 deriz.

4. $16 - \dots - \dots - ?$

Kemal 16'dan başlayarak geriye doğru birer ritmik sayma yapmaktadır.

Buna göre Kemal "?" yerine aşağıdaki sayılardan hangisini yazmalıdır?

A. 13 B. 14 C. 15

5. sayısı 18'den küçük 16'dan büyüktür.

Buna göre "....." yerine aşağıdaki sayılardan hangisi yazılmalıdır?

A. 15 B. 17 C. 19

6. $3 - 4 - 5 - \blacktriangle - 7$

$4 - 6 - \bullet - 10 - 12$

Yukarıdaki örüntüde \blacktriangle ve \bullet yerine hangi sayılar yazılmalıdır?

A. $\blacktriangle \rightarrow 6$ $\bullet \rightarrow 8$

B. $\blacktriangle \rightarrow 6$ $\bullet \rightarrow 7$

C. $\blacktriangle \rightarrow 9$ $\bullet \rightarrow 8$

7. P

4
---	------

 Y

5
---	-------

M

2	.
---	---

 T

0	.
---	---

Yukarıda, rakam kadar nokta (.) konulmuştur.

Hangi renklerde hata yapılmıştır?

A.

M	Y
---	---

 B.

M	T
---	---

 C.

Y	P
---	---

8.

22	30	35
39	40	10
65	87	90
50	81	77




 Yandaki tabloda onar ritmik saymada söylediğimiz sayılar boyandığında hangi görüntü oluşur?

A.

 B.

 C.

9. Aşağıdakilerden hangisinde nesne sayısı 11'den fazla, 19'dan azdır?

A. 
B. 
C. 

10. 9 kalem 3 kalemden azdır.
 7 incir 4 incirden fazladır.
 1 kuş 2 kuştan azdır.

Yukarıdaki ifadelerden doğru olanlara "D", yanlış olanlara "Y" yazılırsa hangi seçenek doğru olur?

A.

Y
D
D

 B.

Y
D
Y

 C.

D
Y
D

11.

10'dan küçük sayı

En büyük rakam

Yukarıdaki renklere karşılık gelecek olanlar hangi seçenekte verilmiştir?

A.

7
10

 B.

8
9

 C.

10
0

12.

12

 • 7'den büyük

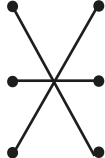

6

 • 4'ten küçük

2

 • 6'ya eşit

Yukarıdaki eşleştirmeler hangi seçenekte doğru verilmiştir?

A.  B.  C. 