

1.



Yukarıdaki dikdörtgenin çevre uzunluğu 140 cm olduğuna göre kısa kenar uzunluğu kaç cm'dir?

- A. 15      B. 20      C. 30      D. 40

2.




Defterime kısa kenarı 8 cm, uzun kenarı kısa kenarının 2 katından 5 cm eksik olan bir dikdörtgen çizdim.

Ozan'ın defterine çizdiği dikdörtgenin çevre uzunluğu aşağıdakilerden hangisidir?

- A. 32 cm      B. 38 cm  
C. 40 cm      D. 48 cm

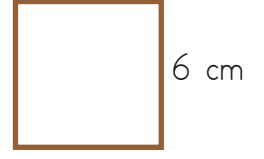
3.



Yukarıdaki dikdörtgenin uzun kenarı kısa kenarının 3 katına eşittir. Buna göre şekli çevresi kaç cm'dir?

- A. 30      B. 32      C. 40      D. 44

4. Yandaki karenin çevre uzunluğu aşağıdakilerden hangisidir?

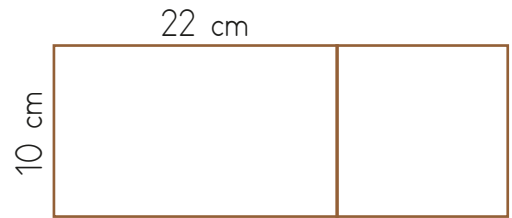


- A. 20 cm      B. 24 cm  
C. 36 cm      D. 42 cm

5. Çevresi 27 cm olan bir eşkenar üçgenin bir kenarı kaç cm'dir?

- A. 7      B. 8  
C. 9      D. 10

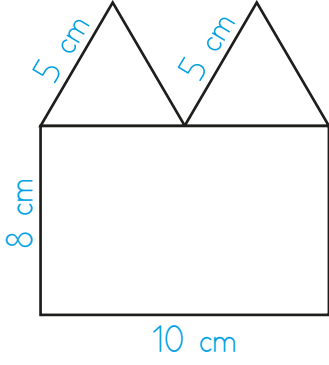
6.



Yukarıdaki şekil bir dikdörtgen ve bir kareden oluşturulmuştur. Bu şeklin çevresi kaç cm'dir?

- A. 80 cm      B. 84 cm  
C. 92 cm      D. 94 cm

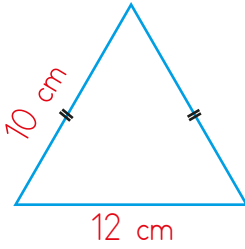
7.



Birbirine eş 2 eşkenar üçgen ve bir dikdörtgenden oluşan yukarıdaki şeklin çevresi kaç cm'dir?

- A. 40 cm      B. 46 cm  
C. 48 cm      D. 58 cm

8.



Yukarıdaki üçgenin çevresi aşağıdaki karelerden hangisinin çevresine eşittir?

- A. 10 cm      B. 9 cm  
C. 8 cm      D. 7 cm


9. Yandaki ABCD dikdörtgeninin çevresi 48, kısa kenarı 10 cm'dir. Buna göre bu dikdörtgenin uzun kenarı kaç cm'dir?



- A. 12 cm    B. 13 cm    C. 14 cm    D. 16 cm


senerfoca.net

10. Yandaki karenin çevre uzunluğu bir kenarı 12 cm olan bir eşkenar üçgenin çevre uzunluğuna eşittir. Buna göre bu karenin bir kenarının uzunluğu kaç cm'dir?



- A. 9 cm    B. 12 cm    C. 16 cm    D. 20 cm

11.



Yukarıda şekil eş karelerden oluşturulmuştur. Karelerden her birinin çevre uzunlukları 4 birimdir. Buna göre şeklin çevresi kaç birimdir?

- A. 28      B. 35  
C. 42      D. 49