


1.



Yukarıdaki ABCD dikdörtgeni için aşağıdakilerden hangisi yanlıştır?

- A. Karşılıklı kenarları birbirine eşittir.
- B. Her bir açısı  $90^\circ$  dir.
- C. 2 köşesi vardır.
- D. 2 köşegeni vardır.

2. Aşağıdakilerden hangisi ABCD olarak isimlendirilen karenin kenarlarından biri değildir?

- A. AB Kenarı
- B. DC Kenarı
- C. BC Kenarı
- D. AC Kenarı

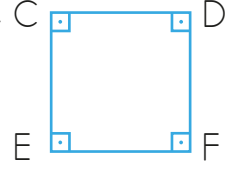
3. Şekilde ABCD dikdörtgeni verilmiştir.



Buna göre eşitliklerden hangisi doğrudur?

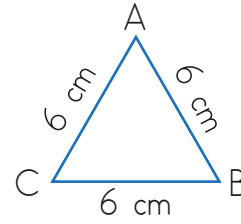
- A.  $IRSI = IPTI$  ve  $IPRI = ITSI$
- B.  $IRPI = ISTI$  ve  $ITPI = ISRI$
- C.  $IRSI = IPRI$  ve  $IPTI = IRSI$
- D.  $IPRI = IPTI$  ve  $ITSI = IRSI$

4. Yandaki kare için aşağıdakilerden hangisi yanlıştır?



- A. Tüm açıları  $90^\circ$ 'dir.
- B. CEFD karesi olarak isimlendirilebilir.
- C. CE ve CD kenarlarının uzunlukları birbirine eşittir.
- D. Köşegeni yoktur.

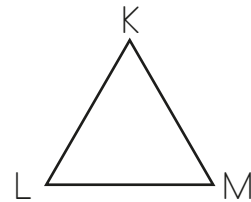
5.



Aşağıdakilerden hangisi yukarıdaki üçgenle ilgili doğru bir bilgi değildir?

- A. İkiz kenar üçgendir.
- B. 3 kenarı vardır.
- C. Köşegeni bulunmaz.
- D. 3 açısı vardır ve bu açılar eşittir.

6.



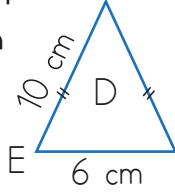
Yukarıdaki üçgen isimlendirildiğinde aşağıdakilerden hangisi kullanılamaz?

- A.  $\widehat{KLM}$
- B.  $\widehat{LK}$
- C.  $\widehat{MLK}$
- D.  $\widehat{KM}$

7. Bir açısı 90 derece olan bir üçgen için aşağıdakilerden hangisi kesin doğrudur?

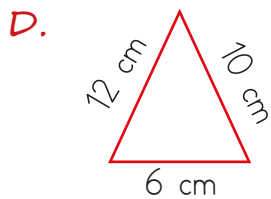
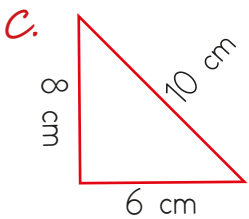
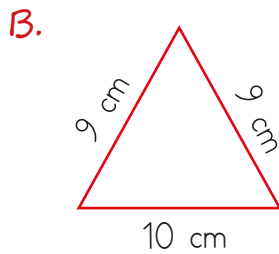
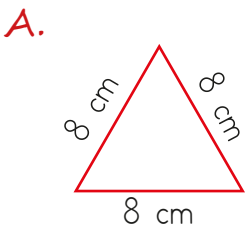
- A. Eşkenar üçgen
- B. Dik üçgen
- C. İkizkenar üçgen
- D. Dar açılı üçgen

8. Yanda verilen ikizkenar üçgenin çevre uzunluğu aşağıdakilerden hangisidir?

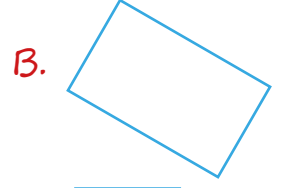


- A. 20 cm
- B. 22 cm
- C. 26 cm
- D. 30 cm

9. Aşağıdaki üçgenlerden hangisi ikiz kenar üçgendir?

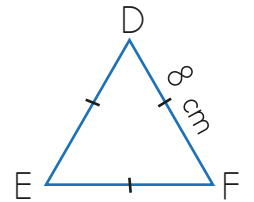
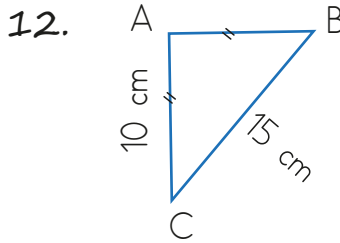


10. Aşağıdaki geometrik şekillerden hangisinin açı sayısı en azdır?



11. Bütün kenar uzunlukları eşit olan bir üçgenin çeşidi aşağıdakilerden hangisidir?

- A. İkizkenar üçgen
- B. Eşkenar üçgen
- C. Dik üçgen
- D. Çeşitkenar üçgen



Yukarıda verilenlere göre ABC ve DEF üçgenlerinin çevre uzunlukları toplamı kaç cm'dir?

- A. 40
- B. 56
- C. 59
- D. 65