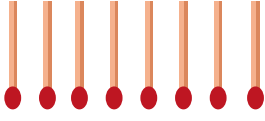



1.



Yukarıdaki kibrit çöplerinin her birinin uzunluğu 4 cm'dir. Bu kibrit çöpleri kırılmadan bir dikdörtgen oluşturulmak isteniyor. Oluşturulmak istenen dikdörtgenin uzun kenarı en fazla kaç cm olabilir?

- A. 8 B. 12 C. 16 D. 20

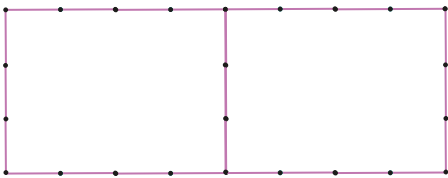
2.



Yukarıdaki şekil 4 eş kareden oluşmuştur. Oluşturulan şeklin çevresi 40 cm'dir. Buna göre karelerden her birinin çevresi kaç cm'dir?

- A. 16 cm B. 20 cm C. 24 cm D. 30 cm

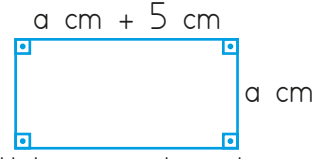
3.



Yukarıdaki şekilde her iki nokta arası 3 cm'dir. Buna göre şeklin çevresi kaç cm'dir?

- A. 66 B. 69 C. 72 D. 75

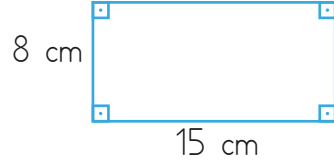
4.



Yukarıdaki dikdörtgenin kenarlarının uzunlukları harflerle ve bazı işlemlerle gösterilmiştir. Dikdörtgenin çevresi 50 cm'dir. Buna göre dikdörtgenin uzun kenarı kaç cm'dir?

- A. 10 cm B. 12 cm
C. 15 cm D. 20 cm

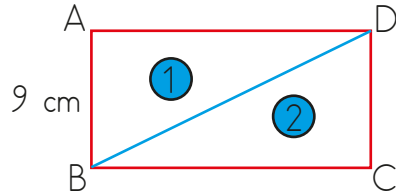
5.



Yukarıdaki dikdörtgenin çevresinde 3 tam tur atan bir karınca kaç cm yürümüş olur?

- A. 125 cm B. 130 cm
C. 133 cm D. 138 cm

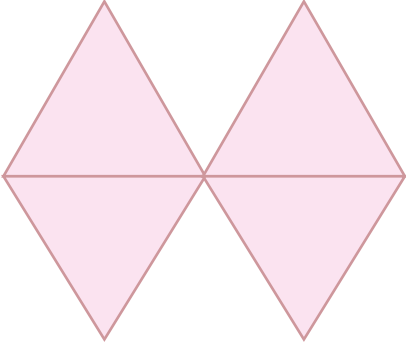
6.



Yukarıdaki dikdörtgenin uzun kenarı kısa kenarının 2 katına eşittir. Dikdörtgenin köşegen uzunluğu ise 20 cm'dir. Buna göre 1 numaralı üçgenin çevresi kaç cm'dir?

- A. 27 cm B. 38 cm
C. 47 cm D. 56 cm

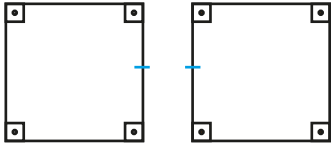
7.



Yukarıdaki şekil 4 eşkenar üçgen oluşturulmuştur. Her eşkenar üçgenin çevresi 36 cm'dir. Oluşturulan şeklin çevresi kaç cm'dir?

- A. 72 B. 84
C. 96 D. 120

8.



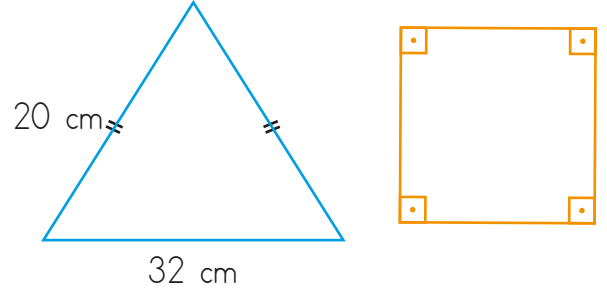
Yukarıdaki iki eş karenin her birinin çevresi 44 cm'dir. Bu iki kare çizgi ile gösterilen kenarlarından birleştirilerek yeni bir şekil oluşturulacaktır. Oluşan şeklin çevresi kaç cm'dir?

- A. 48 cm B. 66 cm
C. 72 cm D. 77 cm

9. Bir kenar uzunluğu 70 m olan kare şeklindeki bir tarlanın etrafına 3 sıra tel çekilecektir. Bu işlem için kaç m tel kullanılır?

- A. 720 B. 800 C. 820 D. 840


10.



Yukarıda bir ikizkenar üçgen, bir kare verilmiştir. Karenin çevre uzunluğu ile ikizkenar üçgenin çevre uzunluğu birbirine eşittir. Buna göre karenin bir kenarının uzunluğu kaç cm'dir?

- A. 18 B. 16 C. 14 D. 12

11.



Yukarıdaki şekil 12 eş kare ve 2 dikdörtgenden oluşturulmuştur. Eş karelerden her birinin çevresi 12 cm'dir. Dikdörtgenin ise kısa kenarı, uzun kenarının üçte biri kadardır. Buna göre oluşturulan şeklin çevresi kaç cm'dir?

- A. 40 cm B. 49 cm
C. 58 cm D. 67 cm