

1. Aşağıdakilerden hangisi nokta modeli değildir?

- A. Kalem ucu
- B. Topun duvarda bıraktığı iz
- C. Çivi

2.



Yukarıdaki iki nokta cetvel ile birleştirilirse aşağıdakilerden hangisi oluşur?

- A. Doğru
- B. Işın
- C. Doğru Parçası

3.



Yukarıdaki geometrik şekillerden kaç tanesinin açısı vardır?

- A. 2
- B. 3
- C. 4

4. "Aynı noktadan çıkan iki ışın arasındaki açıklığa denir."

cümlesindeki noktalı yere aşağıdakilerden hangisi yazılmalıdır?

- A. açı
- B. doğru parçası
- C. doğru


5. Aşağıdakilerden hangisi yanlıştır?

- A. Kalem kağıtta bıraktığı iz nokta modelidir.
- B. Cetvel doğru modelidir.
- C. İki yana uzayan lastik doğru modelidir.

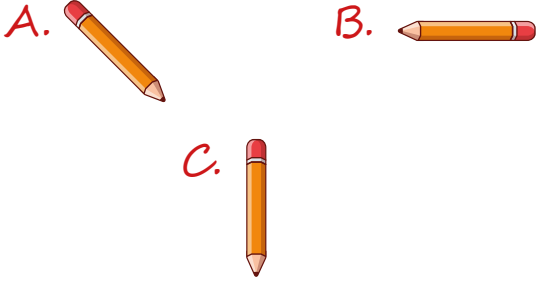
6. Aşağıdakilerden hangisi doğru eşleştirilmiştir?

A.  Işın


B.  Doğru Parçası

C.  Nokta

7. Aşağıdaki kalemlerden hangisi dikey konumdadır?



8.



Hangi görseldeki nesnelere noktaya model olarak gösterilebilir?

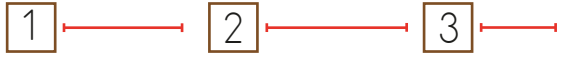
- A. 2 ve 4 B. 2 ve 3
C. 1 ve 3

9.



Yukarıdaki yol aşağıdakilerden hangisine örnektir?


- A. Işın
B. Doğru
C. Doğru parçası

10. 

Yukarıdaki doğru parçalarından hangisi diğerlerinden kısadır?

- A. 1 B. 2 C. 3

11. Aşağıdaki modellerden hangisi ışındır?



12. K  L

Yukarıdaki şekil nasıl adlandırılır?

- A. KL doğrusu
B. KL ışını
C. KL doğru parçası

13.



Yukarıdaki zemine çizilen şekil için ne söylenebilir?

- A. Doğru parçasıdır.
B. Bir doğru modelidir.
C. Işın modelidir.