
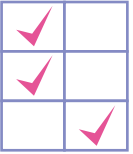



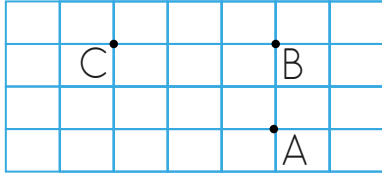
1.

	D	Y
Işının başlangıcı nokta ile gösterilir.		
Başlangıç ve bitiş noktası belli olan düz çizgiye doğru denir.		
Noktalar isimlendirilirken her zaman küçük harf kullanılır.		

Yukarıdaki ifadeleri değerlendirip uygun şekilde işaretlersek hangisi doğru olur?

A.  B.  C. 

2.



İrem, dikey doğru çizmek istemektedir. Buna göre İrem'in çizdiği doğru hangi noktalardan geçebilir?

A. C-A B. A-B C. C-B

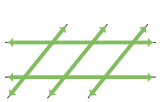
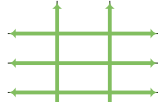
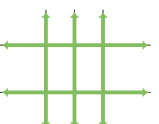
3.



Derya

3 tane dikey, 2 tane yatay doğru çizdim.

Derya'nın çizdiği model hangi seçenekteki gibi olabilir?

A.  B.  C. 

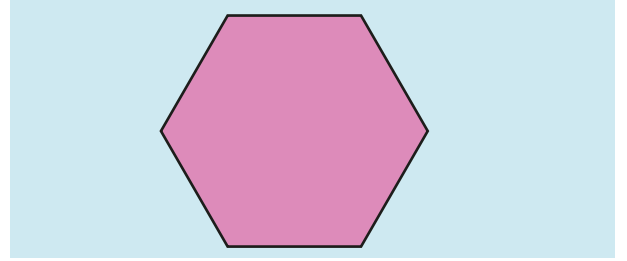
4.

## TALAT

Tahtada yazan sözcükte kullanılan yatay, dikey ve eğik doğru parçası sayıları hangi seçenekte doğru olarak verilmiştir?

	yatay	dikey	eğik
A.	5	3	4
B.	6	3	4
C.	5	4	5

5.



Defne Öğretmen tahtaya yukarıdaki şekli çizmiştir. Ela'ya şekildeki doğru parçası sayısını sormuştur. Ela da şekildeki doğru parçalarını sayıp sonucu bulmuştur. Buna göre Ela'nın bulduğu sonuç aşağıdakilerden hangisi olmalıdır?

A.	Yatay-2	B.	Yatay-3	C.	Yatay-2
	Dikey-0		Dikey-1		Dikey-2
	Eğik-4		Eğik-0		Eğik-2

6. Aşağıdaki sözcüklerden hangisinin verilen doğruya göre simetriği yine kendisidir?

A.	↑	ANA	B.	↑	ADA	C.	↑	OMO
----	---	-----	----	---	-----	----	---	-----

7.

Geometrik şekillerin kenarları nokta ile gösterilir.

D

Y

Bir noktadan 1 tane doğru geçer.

Yere dikilen direk ile yerin yüzeyi bir açı modeli oluşturur.

D

Y

D

Y

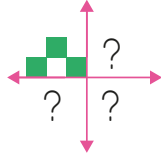
Kutucuklardaki ifadeler doğru ise "D", yanlış ise "Y" oku takip edildiğinde hangi sembolle belirtilen çıkışa ulaşılır?

A. ★

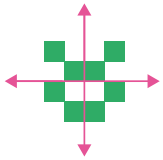
B. ◆

C. ■

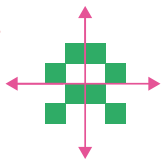
8. Yandaki şeklin doğrulara göre simetrisi alındığında hangi şekil oluşur?



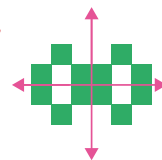
A.



B.



C.



9.



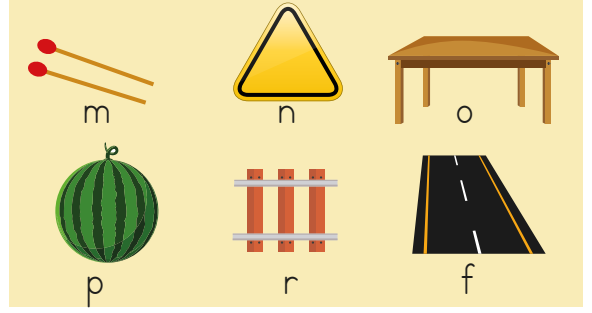
Yukarıdaki verilen şekil örüntüsüne göre, sıradaki şekille ilgili aşağıdaki ifadelerden hangisi yanlıştır?

A. Bir tane dikey doğrusu vardır.

B. Dört tane eğik doğrusu vardır.

C. Bir tane yatay doğrusu vardır.

10.



Yukarıdaki görsellerle ilgili ifadelerden hangisi doğrudur?

A. f ile r doğru modeline örnektir.

B. m ile o ışın modeline örnektir.

C. o ile p doğru parçası modeline örnektir.

11.

C O K S E

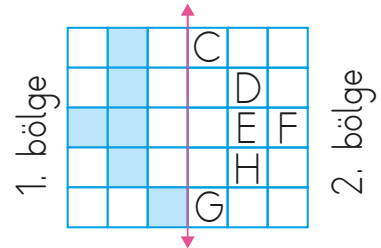
Yukarıdaki harflerden kaç tanesinde açı modeli **yoktur**?

A. 2

B. 3

C. 4

12.



Yukarıdaki şeklin simetri olabilmesi için 1. bölgedeki boyalı karelerin simetrisini, 2. bölgede bulup boyamalıyız.

Buna göre 2. bölgede harflerle belirlenen hangi kare boyanmamalıdır?

A. F

B. D

C. C