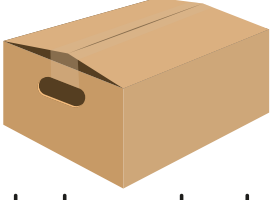


1.



Yukarıdaki kutu ile ilgili verilen bilgilerden hangisi **yanlıştır**?

- A. Köşeleri vardır.
 B. Yüzeylerini kullanarak dikdörtgen çizebiliriz.
 C. Çember çizebiliriz.

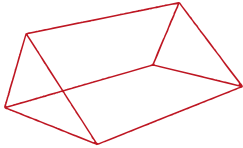
2.



Geometrik şekiller kullanılarak çizilen yukarıdaki resimde kaç tane çember kullanılmıştır?

- A. 5
 B. 6
 C. 7

3.



Yukarıdaki geometrik cismi kullanarak aşağıdaki geometrik şekillerden hangisini çizemeyiz?

- A. B.
 C.

4.



Aşağıdakilerden hangisinin kenar sayısı ile yandaki şeklin kenar sayısı eşittir?

- A. B.
 C.

5.



Üçgen

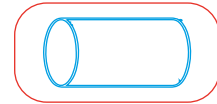
Dikdörtgen

Kare

Yukarıda verilen geometrik şekiller isimleri ile eşleştirildiğinde hangi seçeneğe ulaşır?

- A. B. C.


6.




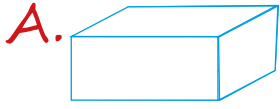
Yukarıdaki geometrik cismi kullanarak hangi şekli çizebiliriz?

- A. B.
 C.


7.



Yukarıdaki şekli çizmek için hangi geometrik cisim kullanılmalıdır?



10.



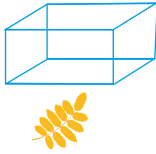

Yukarıdaki resimde hangi geometrik şekil kullanılmamıştır?

A. Çember

B. Kare

C. Dikdörtgen


8.



Yukarıdaki cisimlerden hangileri köşelidir?



9. Görsellerden hangisi diğerlerinden farklı bir geometrik cisme benzer?



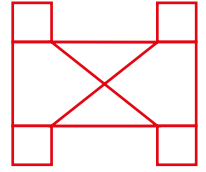
sonerhoca.net

11. Yanda verilen şekilde kaç tane üçgen vardır?

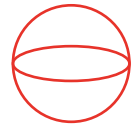
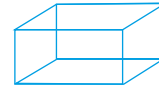
A. 2

B. 3

C. 4



12.



Aşağıdaki düzlemsel şekillerin hangisi verilen geometrik cisimlerin hiçbirinin açınımda yoktur?

A. Dikdörtgensel bölge

B. Üçgensel bölge

C. Dairesel bölge