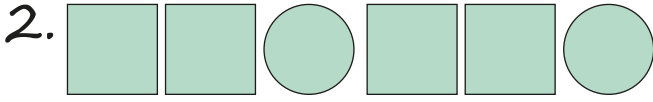


Yukarıdaki örüntüde "?" yerine hangi hayvan getirilmelidir?






Yukarıdaki örüntünün kuralı aşağıdakilerden hangisidir?

- A. İki kare, bir daire
B. Bir kare, iki daire
C. İki kare, iki daire



Yukarıda verilen kurala göre oluşturulan örüntü hangisidir?




- A. 
B. 
C. 



Yukarıdaki örüntünün kuralı hangi seçenekte doğru verilmiştir?

- A. 1 dikdörtgen, 2 kare, 1 çember
B. 2 dikdörtgen, 1 kare, 1 çember
C. 1 dikdörtgen, 1 kare, 2 çember

5. Aşağıdakilerden hangisi örüntü değildir?

- A. 
B. 
C. 



Yukarıda verilen örüntünün kuralı hangi seçenekte verilmiştir?

- A. Bir kare, iki üçgen
B. Bir çember, iki üçgen
C. İki üçgen, bir çember



Yukarıda verilen örüntüde boş bırakılan yere hangi şekil gelmelidir?

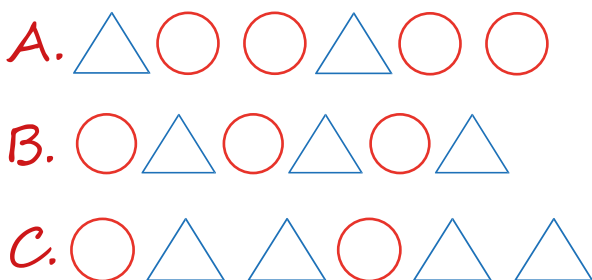


Verilen örüntünün kuralı aşağıdakilerden hangisinde doğru verilmiştir?

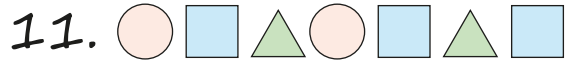
- A. Daire, üçgen, kare
B. Kare, daire, üçgen
C. Kare, üçgen, daire

9. **Örüntü Kuralı** : Bir üçgen, iki daire


Aşağıdakilerden hangisi yukarıda verilen örüntü kuralına uygundur?



Yukarıdaki örüntüde kurala uygun olarak noktalı yere hangi şekil gelmelidir?



Yukarıdaki örüntüde hangi basamakta hata yapılmıştır?



Yukarıdaki örüntüde kurala uygun olarak noktalı yere hangi şekil gelmelidir?

