

1. Aşağıdaki örüntülerden hangisinin kuralı diğerlerinden farklıdır?

A. 

B. 

C. 

2. 

Örüntüsünde sıradaki şekil aşağıdakilerden hangisidir?

A. 

B. 

C. 

3. Hangisi örüntü değildir?

A. 

B. 

C. 

4.  ? 

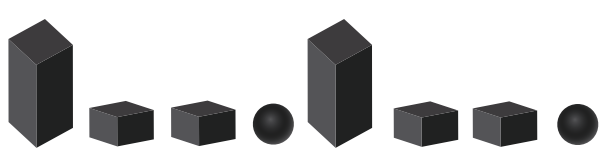
Yukarıdaki örüntüde "?" olan yere hangi şekil gelmelidir?

A. 


B. 

C. 

senefoca.net

5. 

Yukarıdaki örüntüyü, aşağıda verilen geometrik cisimlerden hangisi ile devam ettirebiliriz?

A. 

B. 

C. 


6. Aşağıdaki örüntülerden hangisinin kuralı diğerlerinden farklıdır?

A. 

B. 

C. 

7. Örüntü ile ilgili hangi çocuk yanlış bilgi vermiştir?

A.  Örüntüde herhangi bir kural yoktur.

B.  Örüntüde belli bir kural vardır.

C.  Örüntü sıralı bir şekilde devam eder.

8. 

Örüntüsüne benzer bir kurala sahip olan örüntü hangi seçenekte verilmiştir?

A. 

B. 


C. 

9. Aşağıdakilerden hangisi bir örüntü **oluşturmamıştır**?

A. 

B. 

C. 

10. 

Yukarıdaki şekilde bir örüntü verilmiştir.

Örüntüyü bozan şekil hangi seçenekte doğru verilmiştir?

A. 

B. 

C. 

sonerhoca.net

11. 

Örüntüdeki "?" yerine hangisi gelmelidir?

A. 

B. 

C. 

12. Örüntü Kuralı : Bir kare, iki daire

Aşağıdakilerden hangisi yukarıda verilen örüntünün kuralına uygundur?

A. 

B. 

C. 