

1. Aşağıdaki örüntülerden hangisinin kuralı diğerlerinden farklıdır?



2.



Görseldeki nesnelere aşağıdakilerin hangisinde bir örüntü oluşturmuştur?



3.

Yukarıdaki örüntüde "?" olan yerlere sırasıyla hangi geometrik şekiller gelmelidir?



4.

Yukarıdaki örüntüde "?" olan yere hangi şekil gelmelidir?



5.

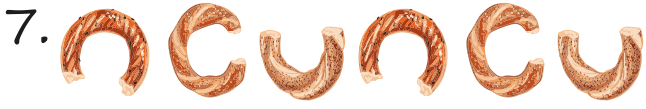
Örüntüdeki "?" yerine hangisi gelmelidir?



6.

Bu örüntünün kuralı ile hangisinin kuralı benzerdir?

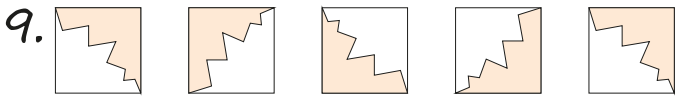
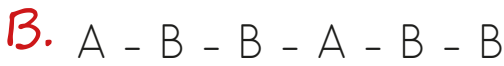
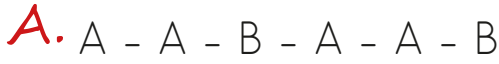




Aşağıdakilerden hangisi yukarıdaki örüntü ile benzer kurallara sahiptir?



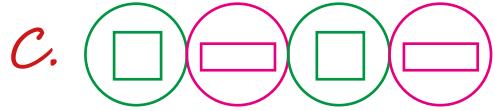
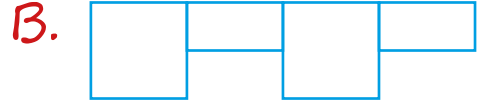

Örüntüsüne benzer bir kurala sahip olan örüntü hangi seçenekte verilmiştir?



Yukarıdaki örüntü aşağıdakilerden hangisi ile devam ettirilmelidir?



10. Aşağıdaki örüntülerin hangisinde sadece kare ve dikdörtgen kullanılmıştır?



sonerhoca.net

11.



Yukarıdaki örüntünün kuralı hangi örüntü kuralına benzemektedir?

A. Örüntü Kuralı : İki üçgen, iki kare, bir dikdörtgen

B. Örüntü Kuralı : Bir üçgen, iki kare, bir dikdörtgen

C. Örüntü Kuralı : Bir üçgen, bir kare, iki dikdörtgen