



Yukarıdaki yarım kavunlar birleştirildiğinde kaç bütün kavun oluşur?


- A.1 B.2 C.3

2. Aşağıdaki çöreklerden hangisi yarıma örnektir?



Yukarıdaki ekmeklerde toplam kaç yarım ekmek vardır?

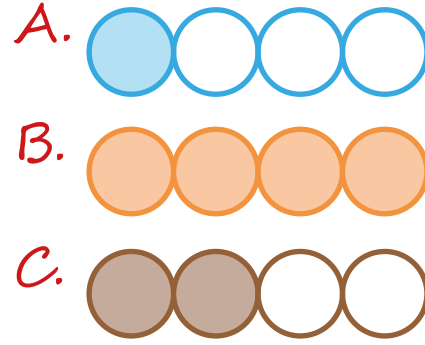
- A.2 B.6 C.4



Resimdeki bütün armutlardan kaç tane yarım armut elde edilir?

- A.6 B.4 C.2

5. Aşağıdaki şekillerden hangisinin yarısı boyanmıştır?




6. Aşağıdaki ifadelerden hangisi doğrudur?

A. Bütün limon, yarım limondan büyüktür.

B. Yarım elma, bütün elmadan büyüktür.

C. 4 yarım simit, 3 bütün simit eder.



Yukarıdaki yarım elmalar kaç bütün elmaya eşittir?


- A. 7 B. 14 C. 9



Yukarıdaki limonlar toplamda kaç yarım limona eşittir?

- A. 15 B. 10 C. 20

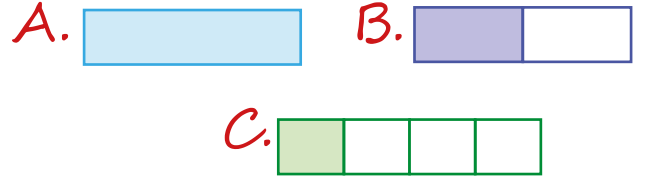
9. Aşağıdaki şekillerden hangisi bir bütünü göstermektedir?




10. Aşağıdaki eşitliklerden hangisi yanlıştır?

- A. 1 bütün = 2 yarım
B. 4 yarım = 2 bütün
C. 2 yarım = 4 bütün

11. Aşağıdaki şekillerden hangisi yarımını göstermektedir?



12.



Yukarıdaki görseller ile ilgili verilen ifadelerden hangisi doğrudur?

- A. 1 bütün nesne vardır.
B. 1 yarım nesne vardır.
C. Hepsi bütündür.