

1. Aşağıdaki işlemlerden hangisinin sonucu 15'tir?

A.  $9 + 5$  B.  $7 + 7$  C.  $7 + 8$

2. Deniz'in 7 tane şekeri var. Annesi, Deniz'e 5 şeker daha verdi. Deniz'in toplam kaç şekeri oldu?

A. 12 B. 13 C. 14

3. 1 onluk ve 4 birlikten oluşan sayıya 5 birlik daha eklersek sonuç kaç olur?

A. 17 B. 19 C. 20

4. Aşağıdaki işlemlerin hangisinde yanlış sonuç bulunmuştur?

A. 
$$\begin{array}{r} 10 \\ + 8 \\ \hline 18 \end{array}$$

B. 
$$\begin{array}{r} 16 \\ + 3 \\ \hline 20 \end{array}$$

C. 
$$\begin{array}{r} 14 \\ + 6 \\ \hline 20 \end{array}$$

5. 

Yukarıda modellenen toplama işlemi hangisidir?

A.  $6 + 4 = 10$

B.  $5 + 5 = 10$


C.  $7 + 3 = 10$

6. Aşağıdaki işlemlerden hangisinin toplamı daha büyüktür?

A.  $9 + 7 =$

B.  $6 + 4 =$

C.  $10 + 5 =$

7.  +  = ?

"?" ile gösterilen yerde kaç tane kalemtraş olur?

- A. 10      B. 12      C. 14

8. Aşağıdaki işlemlerin hangisinde yanlış sonuç bulunmuştur?

A. 
$$\begin{array}{r} 10 \\ + 5 \\ \hline 15 \end{array}$$

B. 
$$\begin{array}{r} 17 \\ + 0 \\ \hline 17 \end{array}$$


C. 
$$\begin{array}{r} 11 \\ + 8 \\ \hline 20 \end{array}$$


9.  $5 + 6 =$        $6 + 6 =$


Aşağıdakilerden hangisi verilen işlemlerden birinin sonucu değildir?

- A. 10      B. 11      C. 12

10. Hangi öğrenci toplama işlemini yanlış yapmıştır?

A.   $7 + 6 = 13$

B.   $8 + 6 = 15$

C.   $12 + 4 = 16$

11.

$$\begin{array}{r} 10 \\ + 3 \\ \hline \dots \end{array}$$

$$\begin{array}{r} 12 \\ + 5 \\ \hline \dots \end{array}$$

$$\begin{array}{r} 9 \\ + 7 \\ \hline \dots \end{array}$$

Aşağıdakilerden hangisi verilen işlemlerden birinin sonucu değildir?

- A. 13      B. 15      C. 16

12.

$6 + 9 =$

Yukarıdaki işlemin sözlü ifadesi ve sonucu aşağıdakilerden hangisidir?

- A. Altı ile dokuzun toplamı on beş eder.  
B. Altı, dokuz daha on altı eder.  
C. Altı artı dokuz on yedi eder.